

## राजस्थान कर्मचारी चयन बोर्ड, जयपुर

परीक्षा का नाम एवं कोड: प्राथमिक विद्यालय अध्यापक(सामान्य/संस्कृत शिक्षा)(लेवल प्रथम, कक्षा 1 से 5 तक) सीधी भर्ती-2025  
परीक्षा कोड: ZZ8

विषय: सामान्य

परीक्षा की दिनांक: 17.01.2026

### प्रारम्भिक उत्तर कुंजी

प्रश्न की क्रम संख्या	सही उत्तर का विकल्प संख्या	प्रश्न की क्रम संख्या	सही उत्तर का विकल्प संख्या	प्रश्न की क्रम संख्या	सही उत्तर का विकल्प संख्या	प्रश्न की क्रम संख्या	सही उत्तर का विकल्प संख्या	प्रश्न की क्रम संख्या	सही उत्तर का विकल्प संख्या
1	A	31	A	61	D	91	A	121	C
2	B	32	B	62	B	92	B	122	A
3	A	33	C	63	A	93	A	123	B
4	D	34	C	64	A	94	B	124	A
5	A	35	D	65	B	95	C	125	D
6	B	36	B	66	C	96	C	126	A
7	A	37	D	67	A	97	D	127	C
8	C	38	A	68	D	98	B	128	D
9	A	39	A	69	C	99	D	129	B
10	C	40	C	70	B	100	D	130	D
11	C	41	A	71	C	101	C	131	A
12	A	42	B	72	C	102	A	132	B
13	A	43	B	73	C	103	C	133	D
14	A	44	A	74	B	104	A	134	C
15	A	45	C	75	A	105	A	135	A
16	A	46	C	76	A	106	D	136	A
17	D	47	A	77	B	107	D	137	A
18	B	48	A	78	B	108	D	138	C
19	B	49	D	79	A	109	B	139	B
20	B	50	C	80	B	110	C	140	C
21	C	51	D	81	D	111	C	141	A
22	C	52	A	82	B	112	A	142	A
23	A	53	C	83	A	113	C	143	A
24	B	54	A	84	A	114	C	144	A
25	A	55	B	85	A	115	D	145	C
26	A	56	C	86	D	116	B	146	D
27	B	57	A	87	C	117	D	147	A
28	D	58	C	88	A	118	A	148	A
29	C	59	C	89	B	119	A	149	D
30	A	60	B	90	C	120	C	150	A

दिनांक: यथाईहस्ताक्षर

Signature Not Verified

Digitally Signed by Priti Mathur

Designation : Secretary

Date :09-03-2026 03:29:38

RajKaj Ref No.:  
20903539

eSign DSC

# प्रश्न पुस्तिका / QUESTION BOOKLET

पुस्तिका में पृष्ठों की संख्या/  
Number of Pages in Booklet : **64**

पुस्तिका में प्रश्नों की संख्या/  
Number of Questions in Booklet : **150**

# ZZ8

इस परीक्षा पुस्तिका को तब तक न खोलें जब तक कहा न जाए।  
Do not open this test booklet until you are asked to do so.

समय/  
Time : **2.30** घंटे  
Hours

पूर्णांक/  
Maximum Marks : **300**

Question Booklet Number  
प्रश्न पुस्तिका क्रमांक

## अनुदेश

## INSTRUCTIONS

1. प्रश्न पत्र को हल करने से पहले, कृपया अपनी प्रश्न पुस्तिका और ओ.एम.आर. उत्तर-पत्रक की जाँच करें और सुनिश्चित करें कि :
  - प्रश्न पुस्तिका और ओ.एम.आर. उत्तर-पत्रक की क्रम संख्या समान है।
  - प्रश्न पुस्तिका के सभी पृष्ठ ठीक से मुद्रित हैं और सभी पृष्ठों पर सारे प्रश्न मुद्रित हैं।किसी भी विसंगति/दोष के मामले में, अभ्यर्थी को प्रश्न पुस्तिका और ओ.एम.आर. उत्तर-पत्रक को बदलने के लिए तुरंत अभिजागर को मामले की सूचना देनी चाहिए। परीक्षा प्रारम्भ होने के पाँच मिनट बाद इस संबंध में किसी भी दावे/आपत्ति पर विचार नहीं किया जाएगा। इसके लिए अभ्यर्थी उत्तरदायी होगा।
2. ओ.एम.आर. उत्तर-पत्रक के पीछे दिए गए सभी निर्देश पढ़ें।
3. ओ.एम.आर. उत्तर-पत्रक पर केवल नीले बॉल प्वाइंट पेन का प्रयोग करें। कृपया, ओ.एम.आर. उत्तर-पत्रक में अपना रोल नंबर और अन्य जानकारी सही ढंग से भरें।
4. सभी प्रश्नों के अंक समान हैं। प्रत्येक गलत उत्तर के लिए प्रश्न का 1/3 अंक काटे जायेंगे।
5. यदि किसी प्रश्न के लिए एक से अधिक उत्तर अंकित किये जाते हैं तो उसे भी गलत उत्तर माना जायेगा।
6. प्रत्येक प्रश्न में पाँच विकल्प/गोले हैं। पहले चार विकल्प/गोले **A, B, C** और **D** उपयुक्त उत्तर से संबंधित हैं और पाँचवाँ विकल्प/गोला '**E**' 'अनुरित प्रश्न' से संबंधित है।
7. सही उत्तर दर्शाने के लिए अभ्यर्थी को ओ.एम.आर. उत्तर-पत्रक पर संबंधित प्रश्न संख्या के पहले चार विकल्प **A, B, C** या **D** में से केवल एक विकल्प/गोले को नीले बॉल प्वाइंट पेन से भरना होगा। यदि अभ्यर्थी किसी प्रश्न का उत्तर नहीं देना चाहता है तो पाँचवें विकल्प/गोले '**E**' को गहरा करना होगा।
8. यदि पाँच विकल्पों में से कोई भी विकल्प/गोला गहरा नहीं किया गया तो प्रश्न का 1/3 भाग अंक काट लिया जायेगा।
9. 10 प्रतिशत से अधिक प्रश्नों में किसी भी विकल्प/गोले को अभ्यर्थी द्वारा गहरा नहीं किया गया तो उसे परीक्षा के लिए अयोग्य घोषित कर दिया जाएगा।
10. अभ्यर्थी को प्रत्येक प्रश्न के लिए कोई एक विकल्प/गोला भरा है या नहीं यह सुनिश्चित करने के लिए 10 मिनट अतिरिक्त दिए जाएँगे।
11. यदि प्रश्न के हिन्दी या अंग्रेजी संस्करण में मुद्रण या तथ्यात्मक प्रकृति की किसी भी प्रकार की अस्पष्ट/गलती है, तो अंग्रेजी संस्करण को अंतिम माना जाएगा।
12. परीक्षा हॉल में मोबाइल फोन/ब्लूटूथ डिवाइस या किसी अन्य इलेक्ट्रॉनिक गैजेट का उपयोग सख्त वर्जित है। यदि किसी अभ्यर्थी के पास ऐसी कोई प्रतिबंधित सामग्री पाई गई तो उसके विरुद्ध नियमानुसार सख्त कार्रवाई की जाएगी।

**चेतावनी :** यदि कोई अभ्यर्थी नकल करते हुए पाया जाता है या अनुचित तरीके अपनाने हुए पाया जाता है या उसके पास कोई अनधिकृत सामग्री पाई जाती है तो उसके खिलाफ पुलिस स्टेशन में एफ.आई.आर. दर्ज की जाएगी और वह राज्य सार्वजनिक परीक्षा अधिनियम, 2022 और संशोधन अधिनियम 2023, (भर्ती में अनुचित साधनों की रोकथाम के अध्याय) के तहत मुकदमा चलाने के लिए उत्तरदायी होगा जिसमें 10 वर्ष से आजीवन कारावास तथा ₹ 10 करोड़ तक का प्रावधान है। उसे बोर्ड की भविष्य की सभी परीक्षाओं से स्थायी रूप से विवर्जित भी किया जा सकता है।

1. Before attempting the question paper, kindly check your Question Booklet (QB) and O.M.R. Answer Sheet and ensure that :
  - Serial number of Question Booklet (QB) and O.M.R. Answer Sheet is same.
  - All pages and all questions are properly printed.In case of any discrepancy/defect, the candidate should immediately report the matter to the Invigilator for replacement of Question Booklet (QB) and O.M.R. Answer Sheet. No claim/objection in this regard will be entertained after five minutes of start of examination, candidate will be liable for the same.
2. Read all instructions on the reverse of O.M.R. Answer Sheet.
3. On O.M.R. Answer Sheet, use blue ball point pen only. Please, fill your Roll No. and other information correctly in O.M.R. Answer Sheet.
4. All questions carry **equal** marks. For each wrong answer 1/3 mark of the question will be deducted.
5. If more than one response is marked for a question, it would also be treated as wrong answer.
6. Each question has five options/circles. First four options/circles **A, B, C** and **D** are related to appropriate answer and fifth option/circle '**E**' is related to 'Question not attempted'.
7. To indicate the correct answer, the candidate has to fill in only one option/ circle **A, B, C** or **D** with blue ball point pen for respective question number on the OMR Answer Sheet. If the candidate does not want to answer any question then the fifth option/circle '**E**' should be darkened.
8. 1/3 part of the marks will be deducted for the questions, if none of the option/ circle options are darkened.
9. If a candidate leaves more than 10 percent questions or does not darken any of the five options, he/she will be disqualified for the exam.
10. Candidate will be given 10 minutes extra to make sure, if he/she has filled up any one option/circle for each questions.
11. If there is any sort of ambiguity/mistake either of printing or factual in nature in Hindi or English version of questions, then the English Version will be treated as final.
12. Use of Mobile Phone/Bluetooth Device or any other electronic gadget in the examination hall is strictly prohibited. If any such prohibited material is found with any candidate, strict action will be taken against him/her as per rules.

**Warning :** If a candidate is found copying or using unfair means or if any unauthorized material is found in his/her possession, F.I.R. will be lodged against him/her in the Police Station and he/she would be liable to be prosecuted under State Public Examination (Measures for Preventions of Unfair Means in Recruitment) Act, 2022 and Amendment Act, 2023. The act has provisions of imprisonment of 10 years to life and fine up to ₹ 10 crore. Board may also debar him/her permanently from all future examinations conducted by the Board.

इस परीक्षा पुस्तिका को तब तक न खोलें जब तक कहा न जाए।

DO NOT OPEN THIS TEST BOOKLET UNTIL YOU ARE ASKED TO DO SO.

1. नीचे दो कथन दिए गए हैं : एक **अभिकथन A** (**Assertion A**) के रूप में लिखित है तो दूसरा उसके **कारण R** (**Reason R**) के रूप में।

**अभिकथन A :**

रियल टाइम ऑपरेटिंग सिस्टम सुनिश्चित करते हैं कि प्रत्युत्तर समय नियत हो।

**कारण R :**

रियल टाइम ऑपरेटिंग सिस्टम उन एप्लिकेशन के लिए बने होते हैं, जिन्हें डाटा तेजी से प्रसंस्कृत/संसाधित करने की जरूरत होती है।

उपरोक्त कथनों के आलोक में, नीचे दिए गए विकल्पों में से **सबसे उपयुक्त** उत्तर का चयन कीजिए :

- (A) **A** और **R** दोनों सही हैं और **R**, **A** की सही व्याख्या है।  
(B) **A** और **R** दोनों सही हैं लेकिन **R**, **A** की सही व्याख्या नहीं है।  
(C) **A** सही है लेकिन **R** सही नहीं है।  
(D) **A** सही नहीं है लेकिन **R** सही है।  
(E) अनुत्तरित प्रश्न

2. निम्नलिखित घटनाओं को कालक्रमानुसार (पुराने से नए) व्यवस्थित करें :

- (a) भारत में मारवाड़ियों जैसे नवीन व्यवसाय समुदायों का विकास।  
(b) भारत में जाति आधारित बाजारों और व्यापार नेटवर्कों का उभार।  
(c) भारत में बीपाओं (BPOs) (व्यवसाय प्रक्रिया आउटसोर्सिंग) का आगमन।  
(d) जजमानी प्रणाली में वस्तु-विनिमय अर्थव्यवस्था।

नीचे दिए गए विकल्पों में से **सबसे उपयुक्त** उत्तर चुनें :

- (A) (b), (a), (d), (c) (B) (d), (b), (a), (c)  
(C) (b), (d), (c), (a) (D) (b), (d), (a), (c)  
(E) अनुत्तरित प्रश्न

1. Given below are two statements : one is labelled as **Assertion A** and the other is labelled as **Reason R**.

**Assertion A :**

Real time operating system ensures that the response time is fixed.

**Reason R :**

Real time operating system are intended for application where data needs to be processed quickly.

In the light of the above statements, choose the **most appropriate** answer from the options given below :

- (A) Both **A** and **R** are correct and **R** is the correct explanation of **A**.  
(B) Both **A** and **R** are correct but **R** is NOT the correct explanation of **A**.  
(C) **A** is correct but **R** is not correct.  
(D) **A** is not correct but **R** is correct.  
(E) Question not attempted

2. Arrange the following developments in a chronological order (from old to new) :

- (a) Development of new business communities like Marwaris in India.  
(b) Emergence of caste-based markets and trading networks in India.  
(c) The coming of BPO (Business Process Outsourcing) industries in India.  
(d) Barter economy under Jajmani system.

Choose the **most appropriate** answer from the options given below :

- (A) (b), (a), (d), (c) (B) (d), (b), (a), (c)  
(C) (b), (d), (c), (a) (D) (b), (d), (a), (c)  
(E) Question not attempted

3. भान्दूरा के अधिगम का सामाजिक संज्ञानात्मक सिद्धान्त के अनुसार प्रेक्षणात्मक अधिगम के क्रम से निम्नलिखित चरण हैं-

- (a) उत्पादन (प्रोडक्शन)
- (b) अभिप्रेरणा (मोटीवेशन)
- (c) धारण (रिटेन्शन)
- (d) ध्यान देना (अटेन्शन)

नीचे दिए गए विकल्पों में से सबसे उपयुक्त उत्तर का चयन कीजिए :

- (A) (d), (c), (b), (a)    (B) (c), (d), (b), (a)
- (C) (a), (b), (c), (d)    (D) (b), (a), (c), (d)
- (E) अनुत्तरित प्रश्न

4. सूची I को सूची II से सुमेलित करें :

सूची I (आयु)		सूची II (संज्ञानात्मक विकास की अवस्था)	
(a)	0-2 वर्ष	(i)	संवेदी प्रेरक
(b)	2-7 वर्ष	(ii)	पूर्व संक्रियात्मक
(c)	7-11 वर्ष	(iii)	मूर्त संक्रियात्मक
(d)	11-15 वर्ष	(iv)	औपचारिक संक्रियात्मक

नीचे दिए गए विकल्पों में से सबसे उपयुक्त उत्तर चुनें :

- (A) (a)-(ii), (b)-(i), (c)-(iii), (d)-(iv)
- (B) (a)-(i), (b)-(iv), (c)-(iii), (d)-(ii)
- (C) (a)-(i), (b)-(iii), (c)-(iv), (d)-(ii)
- (D) (a)-(i), (b)-(ii), (c)-(iii), (d)-(iv)
- (E) अनुत्तरित प्रश्न

3. Observational learning as an outcome of Bhandura's social cognitive theory of learning has following steps :

- (a) Production
- (b) Motivation
- (c) Retention
- (d) Attention

Choose the **most appropriate** answer from the options given below :

- (A) (d), (c), (b), (a)    (B) (c), (d), (b), (a)
- (C) (a), (b), (c), (d)    (D) (b), (a), (c), (d)
- (E) Question not attempted

4. Match List I with List II :

List I (Age)		List II (Stage of Cognitive Development)	
(a)	0-2 years	(i)	Sensorimotor
(b)	2-7 years	(ii)	Preoperational
(c)	7-11 years	(iii)	Concrete operational
(d)	11-15 years	(iv)	Formal operational

Choose the **most appropriate** answer from the options given below :

- (A) (a)-(ii), (b)-(i), (c)-(iii), (d)-(iv)
- (B) (a)-(i), (b)-(iv), (c)-(iii), (d)-(ii)
- (C) (a)-(i), (b)-(iii), (c)-(iv), (d)-(ii)
- (D) (a)-(i), (b)-(ii), (c)-(iii), (d)-(iv)
- (E) Question not attempted

5. गणित में एक इकाई योजना न्यूनतम \_\_\_\_\_ दिनों की अवधि से एक सप्ताह अथवा एक माह तक विस्तारित हो सकती है।

- (a) 2-3 दिन (b) 4-5 दिन  
(c) 5-6 दिन (d) 6-7 दिन

नीचे दिए गए विकल्पों में से सबसे उपयुक्त उत्तर चुनें :

- (A) केवल (a) (B) केवल (b)  
(C) केवल (c) (D) केवल (d)  
(E) अनुत्तरित प्रश्न

6. “समाजशास्त्रीय कल्पना” क्या है ?

- (A) सामाजिक यथार्थ को समझने के लिए अमूर्त विचारों का उपयोग करने की योग्यता।  
(B) “व्यक्तिगत समस्याओं” और “सार्वजनिक मुद्दों” के बीच संबंधों को समझने की योग्यता।  
(C) समाजशास्त्र और अन्य समाज विज्ञानों के बीच संबंध समझने की योग्यता।  
(D) समाजशास्त्रीय रूप से प्रासंगिक शोध विषय सृजित करने की योग्यता।  
(E) अनुत्तरित प्रश्न

5. A unit plan in mathematics may extend from a minimum of \_\_\_\_\_ days duration to one week or a month.

- (a) 2-3 days (b) 4-5 days  
(c) 5-6 days (d) 6-7 days

Choose the **most appropriate** answer from the options given below :

- (A) (a) Only (B) (b) Only  
(C) (c) Only (D) (d) Only  
(E) Question not attempted

6. What is “Sociological Imagination” ?

- (A) The ability to use abstract ideas to understand social reality.  
(B) The ability to understand the relationship between “personal troubles” and “public issues”.  
(C) The ability to understand the relationship between sociology and other social sciences.  
(D) The ability to create sociologically relevant research topic.  
(E) Question not attempted

7. विपरीतार्थी प्रवृत्तियों के संदर्भ में मूल विशेषकों को जानने के लिए रेमंड कैटेल द्वारा कौन सा परीक्षण विकसित किया गया था ?

- (A) 16 व्यक्तित्व कारक प्रश्नावली
- (B) 14 व्यक्तित्व कारक प्रश्नावली
- (C) 12 व्यक्तित्व कारक प्रश्नावली
- (D) 10 व्यक्तित्व कारक प्रश्नावली
- (E) अनुत्तरित प्रश्न

8. नीचे दो कथन दिए गए हैं : एक **अभिकथन A (Assertion A)** के रूप में लिखित है तो दूसरा उसके **कारण R (Reason R)** के रूप में।

**अभिकथन A :**

लोकल एरिया नेटवर्क, प्राइवेट नेटवर्क है तथा 1 किमी तक की परिधि में विस्तृत होते हैं।

**कारण R :**

लोकल एरिया नेटवर्क 7 Mbps से 70 Mbps की रेंज में विद्यमान स्पीड पर संचालित होते हैं।

उपरोक्त कथनों के आलोक में, नीचे दिए गए विकल्पों में से **सबसे उपयुक्त** उत्तर का चयन कीजिए :

- (A) **A** और **R** दोनों सही हैं और **R**, **A** की सही व्याख्या है।
- (B) **A** और **R** दोनों सही हैं लेकिन **R**, **A** की सही व्याख्या नहीं है।
- (C) **A** सही है लेकिन **R** सही नहीं है।
- (D) **A** सही नहीं है लेकिन **R** सही है।
- (E) अनुत्तरित प्रश्न

7. Which test was developed by Raymond Cattel to know source traits in terms of opposing tendencies ?

- (A) 16 personality factor questionnaire
- (B) 14 personality factor questionnaire
- (C) 12 personality factor questionnaire
- (D) 10 personality factor questionnaire
- (E) Question not attempted

8. Given below are two statements : one is labelled as **Assertion A** and the other is labelled as **Reason R**

**Assertion A :**

Local area networks are private network and can span a radius of upto 1 km.

**Reason R :**

Local area networks operate at a speed in the range of 7 Mbps to 70 Mbps.

In the light of the above statements, choose the **most appropriate** answer from the options given below :

- (A) Both **A** and **R** are correct and **R** is the correct explanation of **A**.
- (B) Both **A** and **R** are correct but **R** is NOT the correct explanation of **A**.
- (C) **A** is correct but **R** is not correct.
- (D) **A** is not correct but **R** is correct.
- (E) Question not attempted

9. सूची I को सूची II से सुमेलित करें :

सूची I (प्रतिवर्त)		सूची II (विकासात्मक क्रम)	
(a)	रूटिंग	(i)	3 से 6 माह में विलुप्त हो जाते हैं
(b)	मोरो	(ii)	6 से 7 माह में विलुप्त हो जाते हैं
(c)	पकड़ना	(iii)	3 से 4 माह में विलुप्त हो जाते हैं
(d)	बेबिन्स्की	(iv)	8 से 12 माह में विलुप्त हो जाते हैं

नीचे दिए गए विकल्पों में से सबसे उपयुक्त उत्तर चुनें :

- (A) (a)-(i), (b)-(ii), (c)-(iii), (d)-(iv)  
 (B) (a)-(i), (b)-(iii), (c)-(ii), (d)-(iv)  
 (C) (a)-(i), (b)-(iv), (c)-(iii), (d)-(ii)  
 (D) (a)-(ii), (b)-(i), (c)-(iii), (d)-(iv)  
 (E) अनुत्तरित प्रश्न

10. 12 वर्ष की मानसिक आयु वाले 10 वर्षीय बच्चे का बुद्धि लब्धि (आई.क्यू) स्तर क्या होता है ?

- (A) 83 (B) 93  
 (C) 120 (D) 130  
 (E) अनुत्तरित प्रश्न

9. Match List I with List II :

List I (Reflex)		List II (Development Course)	
(a)	Rooting	(i)	Disappears between 3 to 6 months
(b)	Moro	(ii)	Disappears in 6 to 7 months
(c)	Grasp	(iii)	Disappears in 3 to 4 months
(d)	Babinski	(iv)	Disappears in 8 to 12 months

Choose the **most appropriate** answer from the options given below :

- (A) (a)-(i), (b)-(ii), (c)-(iii), (d)-(iv)  
 (B) (a)-(i), (b)-(iii), (c)-(ii), (d)-(iv)  
 (C) (a)-(i), (b)-(iv), (c)-(iii), (d)-(ii)  
 (D) (a)-(ii), (b)-(i), (c)-(iii), (d)-(iv)  
 (E) Question not attempted

10. What is the IQ level of a 10 year old child with a mental age of 12 ?

- (A) 83 (B) 93  
 (C) 120 (D) 130  
 (E) Question not attempted

11. नीचे दो कथन दिए गए हैं : एक **अभिकथन A** (Assertion A) के रूप में लिखित है तो दूसरा उसके **कारण R** (Reason R) के रूप में।

**अभिकथन A :**

स्वानुभाविक शोध विधि कोई विधि नहीं है, किन्तु एक अभिवृत्ति है जो शिक्षण-अधिगम प्रक्रिया के दौरान बनाई रखी जानी चाहिए।

**कारण R :**

स्वानुभाविक शोध विधि याद करने और रट्टा मारने पर बल देती है क्योंकि विद्यार्थी स्वयं अपने-आप संलग्न/सम्मिलित नियमों की खोज करने में असफल रहते हैं।

उपरोक्त कथनों के आलोक में, नीचे दिए गए विकल्पों में से **सबसे उपयुक्त** उत्तर का चयन कीजिए :

- (A) A और R दोनों सही हैं और R, A की सही व्याख्या है।  
(B) A और R दोनों सही हैं, लेकिन R, A की सही व्याख्या नहीं है।  
(C) A सही है लेकिन R सही नहीं है।  
(D) A सही नहीं है लेकिन R सही है।  
(E) अनुत्तरित प्रश्न

12. नीचे दो कथन दिए गए हैं : एक **अभिकथन (Assertion A)** के रूप में लिखित है तो दूसरा उसके **कारण (Reason R)** के रूप में।

**अभिकथन A :**

अलगाववाद, पूंजीवादी कारखाना आधारित उत्पादन का परिणाम है।

**कारण R :**

पूंजीवाद में वस्तुओं के उत्पादन ने सामाजिक संबंधों को बदल दिया है।

उपरोक्त कथनों के आलोक में, नीचे दिए गए विकल्पों में से **सबसे उपयुक्त** उत्तर का चयन कीजिए :

- (A) A और R दोनों सही हैं और R, A की सही व्याख्या है।  
(B) A और R दोनों सही हैं लेकिन R, A की सही व्याख्या नहीं है।  
(C) A सही है लेकिन R सही नहीं है।  
(D) A सही नहीं है लेकिन R सही है।  
(E) अनुत्तरित प्रश्न

11. Given below are two statements : one is labelled as **Assertion A** and the other is labelled as **Reason R**

**Assertion A :**

Heuristic method is not a method, but an attitude which must be maintained during teaching-learning process.

**Reason R :**

Heuristic method encourages memorization and rote learning as students fails to discover laws involved of their own.

In the light of the above statements, choose the **most appropriate** answer from the options given below :

- (A) Both A and R are correct and R is the correct explanation of A.  
(B) Both A and R are correct but R is NOT the correct explanation of A.  
(C) A is correct but R is not correct.  
(D) A is not correct but R is correct.  
(E) Question not attempted

12. Given below are two statements : one is labelled as **Assertion A** and the other is labelled as **Reason R**.

**Assertion A :**

Alienation is an outcome of capitalist factory based production.

**Reason R :**

Commodity production in capitalism has altered social relations.

In the light of the above statements, choose the **most appropriate** answer from the options given below :

- (A) Both A and R are correct and R is the correct explanation of A.  
(B) Both A and R are correct but R is NOT the correct explanation of A.  
(C) A is correct but R is not correct.  
(D) A is not correct but R is correct.  
(E) Question not attempted

13. अधिगम अशक्तता वाले बच्चे निम्नलिखित बोधात्मक विकार प्रदर्शित करते हैं-

- (a) दृष्टि संबन्धी
- (b) श्रवण संबन्धी
- (c) गतिबोधात्मक
- (d) अति सक्रियता

नीचे दिए गए विकल्पों में से सबसे उपयुक्त उत्तर का चयन कीजिए :

- (A) केवल (a), (b), (c) (B) केवल (b), (c), (d)
- (C) केवल (a), (b), (d) (D) केवल (b), (c)
- (E) अनुत्तरित प्रश्न

14. गणित में अचर कितने प्राथमिक रूपों में विद्यमान होते हैं ?

- (A) दो (B) तीन
- (C) चार (D) पांच
- (E) अनुत्तरित प्रश्न

15. ज्ञान के सृजन की प्रक्रिया के रूप में विज्ञान के मुख्य चरण हैं-

- (a) प्रेक्षण / अवलोकन
- (b) परिकल्पना
- (c) परिकल्पना से पूर्वानुमान
- (d) परिकल्पना परीक्षण

नीचे दिए गए विकल्पों में से सबसे उपयुक्त उत्तर का चयन कीजिए :

- (A) (a), (b), (c), (d) (B) (a), (b), (d), (c)
- (C) (c), (d), (a), (b) (D) (c), (d), (b), (a)
- (E) अनुत्तरित प्रश्न

13. Children with learning disabilities retreat following perceptual disorder :

- (a) Visual
- (b) Auditory
- (c) Kinesthetic
- (d) Hyperactivity

Choose the **most appropriate** answer from the options given below :

- (A) (a), (b), (c) only (B) (b), (c), (d) only
- (C) (a), (b), (d) only (D) (b), (c) only
- (E) Question not attempted

14. Constants in mathematics exist in how many primary forms ?

- (A) Two (B) Three
- (C) Four (D) Five
- (E) Question not attempted

15. The key steps in science as a process of constructing knowledge are :

- (a) Observations
- (b) Hypothesis
- (c) Prediction from Hypothesis
- (d) Hypothesis Testing

Choose the **most appropriate** answer from the options given below :

- (A) (a), (b), (c), (d) (B) (a), (b), (d), (c)
- (C) (c), (d), (a), (b) (D) (c), (d), (b), (a)
- (E) Question not attempted

16. नीचे दो कथन दिए गए हैं : एक **अभिकथन A** (**Assertion A**) के रूप में लिखित है तो दूसरा उसके **कारण R** (**Reason R**) के रूप में।

**अभिकथन A :**

शैक्षिक मनोवैज्ञानिक व्यक्तियों को शैक्षिक और कार्य दशा दोनों में प्रशिक्षित करने के लिए उपयोग की जाने वाली निर्देशात्मक विधियों को विकसित करने में सहायता करते हैं।

**कारण R :**

शैक्षिक मनोवैज्ञानिकों का सरोकार शिक्षा, उपबोधन और अधिगम की समस्याओं के लिए सार्थक पक्षों के अनुसंधानों से भी होता है।

उपरोक्त कथनों के आलोक में, नीचे दिए गए विकल्पों में से **सबसे उपयुक्त** उत्तर का चयन कीजिए :

- (A) **A** और **R** दोनों सही हैं और **R**, **A** की सही व्याख्या है।
- (B) **A** और **R** दोनों सही हैं, लेकिन **R**, **A** की सही व्याख्या नहीं है।
- (C) **A** सही है लेकिन **R** सही नहीं है।
- (D) **A** सही नहीं है लेकिन **R** सही है।
- (E) अनुत्तरित प्रश्न

16. Given below are two statements : one is labelled as **Assertion A** and the other is labelled as **Reason R**.

**Assertion A :**

Educational psychologists help develop instructional methods used to train people in both educational and work settings.

**Reason R :**

Educational psychologists are concerned with research on issues of relevance for education, counselling and learning problems.

In the light of the above statements, choose the **most appropriate** answer from the options given below :

- (A) Both **A** and **R** are correct and **R** is the correct explanation of **A**.
- (B) Both **A** and **R** are correct but **R** is NOT the correct explanation of **A**.
- (C) **A** is correct but **R** is not correct.
- (D) **A** is not correct but **R** is correct.
- (E) Question not attempted

17. नीचे दो कथन दिए गए हैं : एक **अभिकथन A** (**Assertion A**) के रूप में लिखित है तो दूसरा उसके **कारण R** (**Reason R**) के रूप में।

**अभिकथन A :**

राजा उम्मेद सिंह ने रंगमहल बनवाया, जो अपने भित्ति चित्रों के लिए विश्व-विख्यात है।

**कारण R :**

उनके शासनकाल में बूंदी शैली ने नवीन मोड़ लिया। वनस्पति और प्राणि विविधता, बहुरंगी बादल और झीलों संपूर्ण समृद्धि में निरूपित होना शुरू हो गई।

उपरोक्त कथनों के आलोक में, नीचे दिए गए विकल्पों में से **सबसे उपयुक्त** उत्तर का चयन कीजिए :

- (A) **A** और **R** दोनों सही हैं और **R**, **A** की सही व्याख्या है।  
 (B) **A** और **R** दोनों सही हैं लेकिन **R**, **A** की सही व्याख्या नहीं है।  
 (C) **A** सही है लेकिन **R** सही नहीं है।  
 (D) **A** सही नहीं है लेकिन **R** सही है।  
 (E) अनुत्तरित प्रश्न

18. कान में कौनसा आभूषण पहना जाता है/था ?

- (A) बजट्टी/बजत्ति (B) पीपलपत्र  
 (C) मोकड़ी (D) दामणा  
 (E) अनुत्तरित प्रश्न

19. सूची I को सूची II से सुमेलित करें :

सूची I (झील)		सूची II (शहर)	
(a)	राजसमंद झील	(i)	अजमेर
(b)	पिछोला झील	(ii)	उदयपुर
(c)	आनासागर झील	(iii)	कांकरोली
(d)	सिलिसेढ़ झील	(iv)	अलवर

नीचे दिए गए विकल्पों में से **सबसे उपयुक्त** उत्तर चुनें :

- (A) (a)-(iii), (b)-(ii), (c)-(iv), (d)-(i)  
 (B) (a)-(iii), (b)-(ii), (c)-(i), (d)-(iv)  
 (C) (a)-(i), (b)-(ii), (c)-(iii), (d)-(iv)  
 (D) (a)-(iv), (b)-(iii), (c)-(ii), (d)-(i)  
 (E) अनुत्तरित प्रश्न

17. Given below are two statements : one is labelled as **Assertion A** and the other is labelled as **Reason R**.

**Assertion A :**

Raja Ummed Singh constructed a Rangmahal, which is world famous for its murals (Bhitti Chitra).

**Reason R :**

During the reign of the Raja Ummed Singh, the Bundi style took a new turn. Diversity of flora and fauna, multi-colored clouds and lakes began to be depicted in all richness.

In the light of the above statements, choose the **most appropriate** answer from the options given below :

- (A) Both **A** and **R** are correct and **R** is the correct explanation of **A**.  
 (B) Both **A** and **R** are correct but **R** is NOT the correct explanation of **A**.  
 (C) **A** is correct but **R** is not correct.  
 (D) **A** is not correct but **R** is correct.  
 (E) Question not attempted

18. Which jewellery is/was worn in the ear ?

- (A) Bajatti (B) Peepalpatra  
 (C) Mokdi (D) Daamna  
 (E) Question not attempted

19. Match List I with List II :

List I (Lake)		List II (City)	
(a)	Rajsamand lake	(i)	Ajmer
(b)	Pichola lake	(ii)	Udaipur
(c)	Annasagar lake	(iii)	Kankroli
(d)	Silised lake	(iv)	Alwar

Choose the **most appropriate** answer from the options given below :

- (A) (a)-(iii), (b)-(ii), (c)-(iv), (d)-(i)  
 (B) (a)-(iii), (b)-(ii), (c)-(i), (d)-(iv)  
 (C) (a)-(i), (b)-(ii), (c)-(iii), (d)-(iv)  
 (D) (a)-(iv), (b)-(iii), (c)-(ii), (d)-(i)  
 (E) Question not attempted

20. राजस्थान में बिजौलिया किसान आंदोलन से संबंधित निम्नलिखित घटनाओं को कालक्रमानुसार व्यवस्थित करें।

- आंदोलन के नेता के रूप में जमनालाल बजाज
- राजपूताना में गवर्नर जनरल के एजेंट सहित भारत सरकार द्वारा उच्च शक्ति प्राप्त समिति की नियुक्ति
- आंदोलन के नेता के रूप में विजय सिंह पथिक
- साधु सीताराम दास के नेतृत्व में ज्ञापन
- तलवार बंधाई लाग की आड़ में कुछ नवीन कर नीचे दिए गए विकल्पों में से सबसे उपयुक्त उत्तर चुनें :

- (a), (b), (c), (d), (e)
- (e), (d), (c), (b), (a)
- (b), (d), (c), (e), (a)
- (d), (c), (b), (a), (e)
- अनुत्तरित प्रश्न

21. सूची I को सूची II से सुमेलित करें :

सूची I (देश-राज्य)		सूची II (राजस्थान की सीमा)	
(a)	पाकिस्तान	(i)	दक्षिण
(b)	मध्यप्रदेश	(ii)	पूर्व
(c)	पंजाब	(iii)	उत्तर
(d)	गुजरात	(iv)	उत्तर-पश्चिम

नीचे दिए गए विकल्पों में से सबसे उपयुक्त उत्तर चुनें :

- (a)-(i), (b)-(ii), (c)-(iii), (d)-(iv)
- (a)-(iv), (b)-(iii), (c)-(ii), (d)-(i)
- (a)-(iv), (b)-(ii), (c)-(iii), (d)-(i)
- (a)-(iv), (b)-(i), (c)-(ii), (d)-(iii)
- अनुत्तरित प्रश्न

20. Arrange the following events related to Bijolia Peasant Movement in Rajasthan in chronological order :

- Jamnalal Bajaj as a leader of the movement.
- High power committee appointed by Government of India including the agent to Governor General in Rajputana.
- Vijay Singh Pathik as a leader of the movement.
- Presentation under the leadership of Sadhu Sitaram Das.
- Imposition of some new taxes on the pretext of Talwarbandhai lag.

Choose the **most appropriate** answer from the options given below :

- (a), (b), (c), (d), (e)
- (e), (d), (c), (b), (a)
- (b), (d), (c), (e), (a)
- (d), (c), (b), (a), (e)
- Question not attempted

21. Match List I with List II :

List I (Country-state)		List II (Boundary of Rajasthan)	
(a)	Pakistan	(i)	South
(b)	Madhya Pradesh	(ii)	East
(c)	Punjab	(iii)	North
(d)	Gujarat	(iv)	North-West

Choose the **most appropriate** answer from the options given below :

- (a)-(i), (b)-(ii), (c)-(iii), (d)-(iv)
- (a)-(iv), (b)-(iii), (c)-(ii), (d)-(i)
- (a)-(iv), (b)-(ii), (c)-(iii), (d)-(i)
- (a)-(iv), (b)-(i), (c)-(ii), (d)-(iii)
- Question not attempted

22. नीचे दो कथन दिए गए हैं : एक **अभिकथन A** (**Assertion A**) के रूप में लिखित है तो दूसरा उसके **कारण R** (**Reason R**) के रूप में।

**अभिकथन A :**

राजस्थान का मिशन बुनियाद प्राथमिकतया शिक्षण में मूलभूत और अंकगणितीय अधिगम में नवोन्मेष पर केन्द्रित है।

**कारण R :**

यह केवल उच्च प्राथमिक कक्षाओं के लिए ही शुरू किया गया था।

उपरोक्त कथनों के आलोक में, नीचे दिए गए विकल्पों में से **सबसे उपयुक्त** उत्तर का चयन कीजिए :

- (A) **A** और **R** दोनों सही हैं और **R**, **A** की सही व्याख्या है।  
 (B) **A** और **R** दोनों सही हैं लेकिन **R**, **A** की सही व्याख्या नहीं है।  
 (C) **A** सही है लेकिन **R** सही नहीं है।  
 (D) **A** सही नहीं है लेकिन **R** सही है।  
 (E) अनुत्तरित प्रश्न

23. कीर्ति स्तम्भ के बारे में निम्नलिखित कथनों पर विचार करें :

- (a) कीर्ति स्तम्भ जैन तीर्थंकर को समर्पित है।  
 (b) यह 13वीं सदी में निर्मित किया गया था।  
 (c) यह 24.5 मीटर ऊँचा स्तम्भ है।  
 (d) यह इस्लामी वास्तुकला शैली में निर्मित है।  
 (e) यह विजय स्तम्भ के लगभग 150 वर्षों बाद निर्मित किया गया था।

नीचे दिए गए विकल्पों में से **सबसे उपयुक्त** उत्तर चुनें :

- (A) केवल (a), (b) और (c)  
 (B) केवल (b), (c) और (d)  
 (C) केवल (c), (d) और (e)  
 (D) केवल (b), (d) और (e)  
 (E) अनुत्तरित प्रश्न

22. Given below are two statements : one is labelled as **Assertion A** and the other is labelled as **Reason R**.

**Assertion A :**

Rajasthan's Mission Buniyad focuses primarily on innovation in foundational and numeracy learning in teaching.

**Reason R :**

It was launched for the upper primary classes only.

In the light of the above statements, choose the **most appropriate** answer from the options given below :

- (A) Both **A** and **R** are correct and **R** is the correct explanation of **A**.  
 (B) Both **A** and **R** are correct but **R** is NOT the correct explanation of **A**.  
 (C) **A** is correct but **R** is not correct.  
 (D) **A** is not correct but **R** is correct.  
 (E) Question not attempted

23. Consider the following statements about Kirti Stambh :

- (a) Kirti Stambh is dedicated to Jain Tirthankar.  
 (b) It was built in 13<sup>th</sup> century.  
 (c) It is 24.5 meter high pillar.  
 (d) It is built in Islamic architectural style.  
 (e) It was constructed almost 150 years later to Vijay Stambh.

Choose the **most appropriate** answer from the options given below :

- (A) (a), (b) and (c) only  
 (B) (b), (c) and (d) only  
 (C) (c), (d) and (e) only  
 (D) (b), (d) and (e) only  
 (E) Question not attempted

24. राजस्थानी साहित्य की निम्नलिखित रचनाओं को कालक्रमानुसार व्यवस्थित करें :
- (a) वंश भास्कर  
(b) बुद्धि रासो  
(c) ढोला मारू रा दोहा  
(d) बिनहाई रासो
- नीचे दिए गए विकल्पों में से **सबसे उपयुक्त** उत्तर चुनें :
- (A) (b), (a), (d), (c) (B) (c), (b), (d), (a)  
(C) (d), (b), (c), (a) (D) (d), (c), (a), (b)  
(E) अनुत्तरित प्रश्न
25. निम्नलिखित को कालक्रमानुसार व्यवस्थित करें।
- (a) निःशुल्क और अनिवार्य शिक्षा अधिकार अधिनियम।  
(b) राजस्थान बालकों को निःशुल्क और अनिवार्य शिक्षा नियम।  
(c) आरटीई अधिनियम का क्रियान्वयन।  
(d) स्वतंत्र भारत की प्रथम राष्ट्रीय पाठ्यचर्या रूपरेखा।
- नीचे दिए गए विकल्पों में से **सबसे उपयुक्त** उत्तर चुनें :
- (A) (d), (a), (c), (b) (B) (d), (a), (b), (c)  
(C) (a), (d), (c), (b) (D) (a), (d), (b), (c)  
(E) अनुत्तरित प्रश्न
26. नीचे दो कथन दिए गए हैं : एक **अभिकथन A** (Assertion A) के रूप में लिखित है तो दूसरा उसके **कारण R** (Reason R) के रूप में।
- अभिकथन A :**  
सौर कृषि आजीविका योजना पोर्टल राजस्थान के ऊर्जा मंत्री द्वारा 17 अक्टूबर 2022 में शुरू किया गया था।
- कारण R :**  
इसका उद्देश्य सौर विद्युत संयंत्रों का विकेन्द्रीकरण करना था।
- उपरोक्त कथनों के आलोक में, नीचे दिए गए विकल्पों में से **सबसे उपयुक्त** उत्तर का चयन कीजिए :
- (A) A और R दोनों सही हैं और R, A की सही व्याख्या है।  
(B) A और R दोनों सही हैं लेकिन R, A की सही व्याख्या नहीं है।  
(C) A सही है लेकिन R सही नहीं है।  
(D) A सही नहीं है लेकिन R सही है।  
(E) अनुत्तरित प्रश्न

24. Arrange the following works of Rajasthani Literature in chronological order :
- (a) Vansh Bhaskar  
(b) Buddhi Raso  
(c) Dhola Maru ra Doha  
(d) Binhai Raso
- Choose the **most appropriate** answer from the options given below :
- (A) (b), (a), (d), (c) (B) (c), (b), (d), (a)  
(C) (d), (b), (c), (a) (D) (d), (c), (a), (b)  
(E) Question not attempted
25. Arrange the following in chronological order :
- (a) Right to free and compulsory education act.  
(b) Rajasthan right of children to free and compulsory education rules.  
(c) Implementation of RTE act.  
(d) First National Curriculum Framework of Independent India.
- Choose the **most appropriate** answer from the options given below :
- (A) (d), (a), (c), (b) (B) (d), (a), (b), (c)  
(C) (a), (d), (c), (b) (D) (a), (d), (b), (c)  
(E) Question not attempted
26. Given below are two statements : one is labelled as **Assertion A** and the other is labelled as **Reason R**
- Assertion A :**  
Solar Agriculture livelihood scheme portal was launched on 17 Oct 2022 by Energy minister of Rajasthan.
- Reason R :**  
The objective was to decentralize solar power plants.
- In the light of the above statements, choose the **most appropriate** answer from the options given below :
- (A) Both A and R are correct and R is the correct explanation of A.  
(B) Both A and R are correct but R is NOT the correct explanation of A.  
(C) A is correct but R is not correct.  
(D) A is not correct but R is correct.  
(E) Question not attempted

27. निम्न में से कौन राजस्थान इंदिरा प्रियदर्शिनी पुरस्कार योजना के संदर्भ में सही हैं ?
- (a) योजना केवल 'आर बी एस ई' की छात्राओं के लिए है।
- (b) कक्षा 8, 10 और 12 के जिला टॉपर इस योजना के लिए पात्र हैं।
- (c) यह राजस्थान में कन्या शिक्षा को बढ़ावा देती है।
- (d) इस योजना के अंतर्गत कक्षा 12 के जिला टॉपर को 20,000 रूपए मिलते हैं।

नीचे दिए गए विकल्पों में से **सबसे उपयुक्त** उत्तर चुनें :

- (A) केवल (a), (b), (d) (B) केवल (a), (b), (c)
- (C) केवल (b), (c), (d) (D) केवल (a), (c), (d)
- (E) अनुत्तरित प्रश्न
28. राजस्थान सरकार ने हाल ही में पर्यावरण-संवेदनशील क्षेत्रों की सूची प्रकाशित की है। निम्नलिखित में से कौनसा राजस्थान से नहीं है ?
- (A) मुकुंदरा हिल्स बाघ रिजर्व
- (B) केवलादेव राष्ट्रीय पार्क
- (C) जयसमंद वन्यजीवन अभयारण्य
- (D) नारायण सरोवर अभयारण्य
- (E) अनुत्तरित प्रश्न

29. सूची I को सूची II से सुमेलित करें :

सूची I		सूची II	
(a)	एकलव्य पुरस्कार	(i)	5000 रूपए
(b)	इंस्पायर पुरस्कार	(ii)	51000 रूपए
(c)	विद्यार्थी खेल रत्न पुरस्कार	(iii)	नियत नहीं
(d)	गार्गी पुरस्कार योजना	(iv)	प्रति वर्ष 3000 रूपए

नीचे दिए गए विकल्पों में से **सबसे उपयुक्त** उत्तर चुनें :

- (A) (a)-(iii), (b)-(ii), (c)-(i), (d)-(iv)
- (B) (a)-(iv), (b)-(iii), (c)-(ii), (d)-(i)
- (C) (a)-(iii) (b)-(i), (c)-(ii), (d)-(iv)
- (D) (a)-(iv), (b)-(iii), (c)-(i), (d)-(ii)
- (E) अनुत्तरित प्रश्न

27. Which of the following are correct about Rajasthan's Indira Priyadarshini Puraskar Yojana ?

- (a) This yojana is only for girl students of RBSE.
- (b) District toppers of class 8, 10 and 12 are eligible for this scheme.
- (c) It encourages girl's education in Rajasthan.
- (d) Under this scheme the district topper of class 12<sup>th</sup> gets Rs. 20 thousand.

Choose the **most appropriate** answer from the options given below :

- (A) (a), (b), (d) only (B) (a), (b), (c) only
- (C) (b), (c), (d) only (D) (a), (c), (d) only
- (E) Question not attempted

28. Government of Rajasthan has recently published the list of Eco-Sensitive zones. Which of the following is **not** from the state of Rajasthan ?

- (A) Mukundara Hills Tiger Reserve
- (B) Keoladeo National park
- (C) Jaisamand wildlife sanctuary
- (D) Narayan Sarovar sanctuary
- (E) Question not attempted

29. Match List I with List II :

List I		List II	
(a)	Ekalavya Award	(i)	Rs. 5000
(b)	Inspire Award	(ii)	Rs. 51000
(c)	Vidyarthi Khel Ratna Award	(iii)	Not fixed
(d)	Gargi Puraskar Yojana	(iv)	Rs. 3000 per year

Choose the **most appropriate** answer from the options given below :

- (A) (a)-(iii), (b)-(ii), (c)-(i), (d)-(iv)
- (B) (a)-(iv), (b)-(iii), (c)-(ii), (d)-(i)
- (C) (a)-(iii) (b)-(i), (c)-(ii), (d)-(iv)
- (D) (a)-(iv), (b)-(iii), (c)-(i), (d)-(ii)
- (E) Question not attempted

30. राजस्थान के निम्नलिखित जिलों को जनसंख्या के अनुसार अवरोही क्रम में व्यवस्थित करें (जनगणना 2011 के अनुसार) :

- (a) अलवर  
(b) बाड़मेर  
(c) बूंदी  
(d) बीकानेर

नीचे दिए गए विकल्पों में से सबसे उपयुक्त उत्तर चुनें :

- (A) (a), (b), (d), (c) (B) (a), (b), (c), (d)  
(C) (b), (a), (d), (c) (D) (b), (a), (c), (d)  
(E) अनुत्तरित प्रश्न

31. सूची I को सूची II से सुमेलित करें :

सूची I (शोध संस्थान)		सूची II (स्थान)	
(a)	केन्द्रीय शुष्क क्षेत्र अनुसंधान संस्थान	(i)	जोधपुर
(b)	केन्द्रीय भेड़ और ऊन अनुसंधान संस्थान	(ii)	जयपुर
(c)	भेड़ और ऊन प्रशिक्षण संस्थान	(iii)	अविकानगर
(d)	केन्द्रीय सरसों अनुसंधान संस्थान	(iv)	सेवर

नीचे दिए गए विकल्पों में से सबसे उपयुक्त उत्तर चुनें :

- (A) (a)-(i), (b)-(iii), (c)-(ii), (d)-(iv)  
(B) (a)-(i), (b)-(iv), (c)-(iii), (d)-(ii)  
(C) (a)-(i), (b)-(ii), (c)-(iii), (d)-(iv)  
(D) (a)-(iv), (b)-(iii), (c)-(ii), (d)-(i)  
(E) अनुत्तरित प्रश्न

30. Arrange the following districts of Rajasthan according to population in descending order (As per census 2011) :

- (a) Alwar  
(b) Barmer  
(c) Bundi  
(d) Bikaner

Choose the **most appropriate** answer from the options given below :

- (A) (a), (b), (d), (c) (B) (a), (b), (c), (d)  
(C) (b), (a), (d), (c) (D) (b), (a), (c), (d)  
(E) Question not attempted

31. Match List I with List II :

List I (Research Institute)		List II (Place)	
(a)	Central Arid Zone Research Institute	(i)	Jodhpur
(b)	Central Sheep and Wool Research Institute	(ii)	Jaipur
(c)	Sheep and Wool Training Institute	(iii)	Avikanagar
(d)	Central Mustard Research Institute	(iv)	Sewar

Choose the **most appropriate** answer from the options given below :

- (A) (a)-(i), (b)-(iii), (c)-(ii), (d)-(iv)  
(B) (a)-(i), (b)-(iv), (c)-(iii), (d)-(ii)  
(C) (a)-(i), (b)-(ii), (c)-(iii), (d)-(iv)  
(D) (a)-(iv), (b)-(iii), (c)-(ii), (d)-(i)  
(E) Question not attempted

32. नीचे दो कथन दिए गए हैं : एक **अभिकथन A** (**Assertion A**) के रूप में लिखित है तो दूसरा उसके कारण **R** (**Reason R**) के रूप में।

**अभिकथन A :**

निजी गैर-अनुदान प्राप्त संस्थानों को स्कूल प्रबंधन समिति के गठन से छूट प्राप्त है।

**कारण R :**

अतः, आरटीई एक्ट में प्रावधान है कि माता-पिता स्कूल प्रबंधन समिति में बहुमत में होंगे, जिसमें स्कूल शिक्षक और निर्वाचित पंचायत सदस्य भी शामिल होंगे।

उपरोक्त कथनों के आलोक में, नीचे दिए गए विकल्पों में से **सबसे उपयुक्त** उत्तर का चयन कीजिए :

- (A) **A** और **R** दोनों सही हैं और **R**, **A** की सही व्याख्या है।  
 (B) **A** और **R** दोनों सही हैं लेकिन **R**, **A** की सही व्याख्या नहीं है।  
 (C) **A** सही है लेकिन **R** सही नहीं है।  
 (D) **A** सही नहीं है लेकिन **R** सही है।  
 (E) अनुत्तरित प्रश्न

33. रामगढ़ भांड देवरा मंदिर की मुख्य विशेषताएँ हैं :

- (a) यह बारां शहर से 40 किमी दूर स्थित है।  
 (b) यह भगवान विष्णु को समर्पित है।  
 (c) इसे राजस्थान का लघु खजुराहो भी कहा जाता है।  
 (d) यह परवण नदी के किनारे स्थित है।

नीचे दिए गए विकल्पों में से **सबसे उपयुक्त** उत्तर चुनें :

- (A) केवल (a) और (b) (B) केवल (b) और (c)  
 (C) केवल (a) और (c) (D) केवल (c) और (d)  
 (E) अनुत्तरित प्रश्न

32. Given below are two statements : one is labelled as **Assertion A** and the other is labelled as **Reason R**

**Assertion A :**

Private unaided institutions are exempted from the constitution of School Management Committee.

**Reason R :**

The RTE act therefore envisages that parents would form a majority in the School Management Committee, which would also include elected members from panchayat and school teachers.

In the light of the above statements, choose the **most appropriate** answer from the options given below :

- (A) Both **A** and **R** are correct and **R** is the correct explanation of **A**.  
 (B) Both **A** and **R** are correct but **R** is NOT the correct explanation of **A**.  
 (C) **A** is correct but **R** is not correct.  
 (D) **A** is not correct but **R** is correct.  
 (E) Question not attempted

33. The main features of Ramgarh Bhand Devra Temple are :

- (a) It is located 40 km away from the city Baran.  
 (b) It is dedicated to Lord Vishnu.  
 (c) It is also called mini Khajuraho of Rajasthan.  
 (d) It is situated on the banks of the Parvan River.

Choose the **most appropriate** answer from the options given below :

- (A) (a) and (b) only (B) (b) and (c) only  
 (C) (a) and (c) only (D) (c) and (d) only  
 (E) Question not attempted

34. भक्तिकाल की मुख्य विशेषताएँ हैं :

- (a) भक्ति आंदोलन का प्रवर्तन भक्ति संतों द्वारा किया गया था।
- (b) उन्होंने अपने उपदेशों से सभी प्रकार का भेदभाव समाप्त करने की कोशिश की थी।
- (c) कुछ भक्ति संत राजाओं के चरित्र, गुणों और अन्य सराहनीय कार्यों का गुण वर्णन करते थे।
- (d) निर्गुण संतों ने गुरु की महिमा एवं महत्व के बिना समस्त समय भगवान का स्मरण करने की महत्ता पर बल दिया।

नीचे दिए गए विकल्पों में से सबसे उपयुक्त उत्तर चुनें :

- (A) केवल (a), (b) और (c)
- (B) केवल (b), (c) और (d)
- (C) केवल (a), (b) और (d)
- (D) केवल (a), (c) और (d)
- (E) अनुत्तरित प्रश्न

35. राजस्थान की 'साहित्य अकादमी' पुरस्कार प्राप्त साहित्यिक रचनाओं को कालक्रमानुसार व्यवस्थित करें :

- (a) सुंदर नैन सुधा
- (b) गवाड़ (उपन्यास)
- (c) पग फेरो (कविता)
- (d) बातां री फुलवारी खण्ड-X

नीचे दिए गए विकल्पों में से सबसे उपयुक्त उत्तर चुनें :

- (A) (a), (b), (c), (d) (B) (b), (a), (c), (d)
- (C) (c), (d), (a), (b) (D) (d), (c), (a), (b)
- (E) अनुत्तरित प्रश्न

34. The salient features of Bhakti period are :

- (a) Bhakti Movement was propagated by the bhakti saints.
- (b) They tried to eradicate all discrimination through their teachings.
- (c) Some bhakti saints described the character, traits and other commendable works of the kings.
- (d) The Nirgun saints emphasized on the importance of remembering God all the time without attributes and importance of guru.

Choose the **most appropriate** answer from the options given below :

- (A) (a), (b) and (c) only
- (B) (b), (c) and (d) only
- (C) (a), (b) and (d) only
- (D) (a), (c) and (d) only
- (E) Question not attempted

35. Arrange in chronological order 'Sahitya Academy' award winning literature of Rajasthan :

- (a) Sundar Nain Sudha
- (b) Gawaad (Novel)
- (c) Pag fero (Poetry)
- (d) Batan Ri Phulwari Vol – X

Choose the **most appropriate** answer from the options given below :

- (A) (a), (b), (c), (d) (B) (b), (a), (c), (d)
- (C) (c), (d), (a), (b) (D) (d), (c), (a), (b)
- (E) Question not attempted

36. सूची I को सूची II से सुमेलित करें :

सूची I (पर्यावरण पर्यटन स्थल)		सूची II (जिला)	
(a)	पीताम्बर की गाल/गाव्व	(i)	बारां
(b)	कुंड खोह	(ii)	बलोत्रा
(c)	सिवाणा	(iii)	बूंदी
(d)	भीमलाट	(iv)	अजमेर

नीचे दिए गए विकल्पों में से सबसे उपयुक्त उत्तर चुनें :

- (A) (a)-(iv), (b)-(i), (c)-(iii), (d)-(ii)  
 (B) (a)-(iv), (b)-(i), (c)-(ii), (d)-(iii)  
 (C) (a)-(iv), (b)-(ii), (c)-(iii), (d)-(i)  
 (D) (a)-(iv), (b)-(iii), (c)-(ii), (d)-(i)  
 (E) अनुत्तरित प्रश्न

37. निम्नलिखित जिलों को (जनगणना 2011 के अनुसार) साक्षरता दर के आरोही क्रम में व्यवस्थित करें :

- (a) राजसमंद  
 (b) पाली  
 (c) नागौर  
 (d) कोटा

नीचे दिए गए विकल्पों में से सबसे उपयुक्त उत्तर चुनें :

- (A) (a), (b), (c), (d) (B) (c), (b), (a), (d)  
 (C) (d), (c), (b), (a) (D) (b), (c), (a), (d)  
 (E) अनुत्तरित प्रश्न

38. निम्नलिखित राज्यों को उनके क्षेत्रफल के अनुसार अवरोही क्रम में व्यवस्थित करें।

- (a) राजस्थान  
 (b) हरियाणा  
 (c) उत्तर प्रदेश  
 (d) गुजरात

नीचे दिए गए विकल्पों में से सबसे उपयुक्त उत्तर चुनें :

- (A) (a), (c), (d), (b) (B) (a), (c), (b), (d)  
 (C) (b), (d), (c), (a) (D) (d), (b), (c), (a)  
 (E) अनुत्तरित प्रश्न

36. Match List I with List II :

List I (EcoTourism site)		List II (District)	
(a)	Pitambar ki Gal	(i)	Baran
(b)	Kund khoh	(ii)	Balotra
(c)	Siwana	(iii)	Bundi
(d)	Bhimlat	(iv)	Ajmer

Choose the **most appropriate** answer from the options given below :

- (A) (a)-(iv), (b)-(i), (c)-(iii), (d)-(ii)  
 (B) (a)-(iv), (b)-(i), (c)-(ii), (d)-(iii)  
 (C) (a)-(iv), (b)-(ii), (c)-(iii), (d)-(i)  
 (D) (a)-(iv), (b)-(iii), (c)-(ii), (d)-(i)  
 (E) Question not attempted

37. Arrange the following districts in ascending order of literacy rate (according to census 2011) :

- (a) Rajsamand  
 (b) Pali  
 (c) Nagaur  
 (d) Kota

Choose the **most appropriate** answer from the options given below :

- (A) (a), (b), (c), (d) (B) (c), (b), (a), (d)  
 (C) (d), (c), (b), (a) (D) (b), (c), (a), (d)  
 (E) Question not attempted

38. Arrange the following states according to their area in descending order :

- (a) Rajasthan  
 (b) Haryana  
 (c) Uttar Pradesh  
 (d) Gujarat

Choose the **most appropriate** answer from the options given below :

- (A) (a), (c), (d), (b) (B) (a), (c), (b), (d)  
 (C) (b), (d), (c), (a) (D) (d), (b), (c), (a)  
 (E) Question not attempted

39. 9 अप्रैल 1991 को राजस्थान में नए जिले बनाए गए थे-
- (a) कोटा जिले से बारां बनाया गया था।
  - (b) गंगानगर जिले से हनुमानगढ़ बनाया गया था।
  - (c) उदयपुर जिले से राजसमंद बनाया गया था।
  - (d) जयपुर जिले से दौसा बनाया गया था।
  - (e) राजस्थान में अब 7 प्रमंडल हैं।
- नीचे दिए गए विकल्पों में से **सबसे उपयुक्त** उत्तर चुनें :

- (A) केवल (a), (b), (c) और (d)
- (B) केवल (a), (b) और (c)
- (C) केवल (b), (c) और (d)
- (D) केवल (d) और (e)
- (E) अनुत्तरित प्रश्न

40. राजस्थान की ज्योति योजना के अंतर्गत :
- (a) उन महिलाओं को रोजगार में प्राथमिकता दी जाएगी जिनका कोई लड़का नहीं हो और 1-2 लड़कियाँ हो तथा नसबंदी करवा ली हो।
  - (b) राजस्थान सरकार शिक्षा के लिए सहायता करेगी।
  - (c) सरकारी चिकित्सालयों में निःशुल्क उपचार।
  - (d) यह योजना सामाजिक न्याय और अधिकारिता मंत्रालय द्वारा क्रियान्वित है।

नीचे दिए गए विकल्पों में से **सबसे उपयुक्त** उत्तर चुनें :

- (A) केवल (a) और (b)
- (B) केवल (b) और (c)
- (C) केवल (a), (b) और (c)
- (D) (a), (b), (c) और (d)
- (E) अनुत्तरित प्रश्न

39. On 9 April 1991, some new districts of Rajasthan were created :
- (a) Baran was created from Kota district.
  - (b) Hanumangarh was created from Ganganagar district.
  - (c) Rajsamand was created from Udaipur district.
  - (d) Dausa was created from Jaipur district.
  - (e) Rajasthan now has 7 divisions.

Choose the **most appropriate** answer from the option given below :

- (A) (a), (b), (c) and (d) only
- (B) (a), (b) and (c) only
- (C) (b), (c) and (d) only
- (D) (d) and (e) only
- (E) Question not attempted

40. Under Jyoti Yojana of Rajasthan :
- (a) Employment preference will be given to women with no male child & 1-2 female child & have undergone sterilization.
  - (b) Rajasthan government will help for education.
  - (c) Free treatment in govt. hospitals.
  - (d) This scheme is implemented by Social Justice and Empowerment department.

Choose the **most appropriate** answer from the options given below :

- (A) (a) and (b) only
- (B) (b) and (c) only
- (C) (a), (b) and (c) only
- (D) (a), (b), (c) and (d)
- (E) Question not attempted

41. राजस्थान खादी और ग्रामोद्योग बोर्ड एक गैर-लाभकारी वैधानिक निकाय है, जो निम्नलिखित के अंतर्गत स्थापित किया गया है-

नीचे दिए गए विकल्पों में से सबसे उपयुक्त उत्तर चुनें :

- (A) राजस्थान खादी और ग्रामोद्योग बोर्ड अधिनियम 1995
- (B) पंचायती राज संशोधन - अध्यादेश - 2000
- (C) राइजिंग राजस्थान - 2020
- (D) सूक्ष्म स्तर और घरेलू उद्योग अधिनियम - 1991
- (E) अनुत्तरित प्रश्न

42. नीचे दो कथन दिए गए हैं : एक अभिकथन A (Assertion A) के रूप में लिखित है तो दूसरा उसके कारण R (Reason R) के रूप में।

**अभिकथन A :**

राजस्थान में शरद ऋतु मध्य सितंबर से लेकर मध्य दिसंबर तक व्याप्त रहती है।

**कारण R :**

वर्षा के पश्चात् स्पष्ट/खुले आसमान के कारण इस ऋतु में तापमान 38°C तक बढ़ जाता है।

उपरोक्त कथनों के आलोक में, नीचे दिए गए विकल्पों में से सबसे उपयुक्त उत्तर का चयन कीजिए :

- (A) A और R दोनों सही हैं और R, A की सही व्याख्या है।
- (B) A और R दोनों सही हैं लेकिन R, A की सही व्याख्या नहीं है।
- (C) A सही है लेकिन R सही नहीं है।
- (D) A सही नहीं है लेकिन R सही है।
- (E) अनुत्तरित प्रश्न

41. The Rajasthan Khadi and Village Industries Board is a non-profit making statutory body established under :

Choose the **most appropriate** answer from the option given below :

- (A) Rajasthan Khadi and Village Industries Board Act 1995.
- (B) Panchayati Raj Amendment - ordinance - 2000.
- (C) Rising Rajasthan - 2020.
- (D) Small scale and household industries Act - 1991.
- (E) Question not attempted

42. Given below are two statements : one is labelled as **Assertion A** and the other is labelled as **Reason R**.

**Assertion A :**

Autumn season in Rajasthan spread from mid-September to mid-December.

**Reason R :**

In this season the temperature grows upto 38°C because of the clear sky after the Rainfall.

In the light of the above statements, choose the **most appropriate** answer from the options given below :

- (A) Both A and R are correct and R is the correct explanation of A.
- (B) Both A and R are correct but R is NOT the correct explanation of A.
- (C) A is correct but R is not correct.
- (D) A is not correct but R is correct.
- (E) Question not attempted

43. नीचे दिए गए राजस्थान के संतों और लोक देवताओं को उनके जन्म वर्ष के आधार पर कालक्रमानुसार व्यवस्थित करें :

- (a) पाबुजी
- (b) पीपा
- (c) दादू दयाल
- (d) देवनारायणजी

नीचे दिए गए विकल्पों में से सबसे उपयुक्त उत्तर चुनें :

- (A) (a), (d), (c), (b) (B) (a), (d), (b), (c)
- (C) (a), (c), (b), (d) (D) (a), (b), (c), (d)
- (E) अनुत्तरित प्रश्न

44. भीनमाल (जालौर) से संबंधित तथा 'शिशुपाल वध' के लेखक/कवि का नाम बताएँ।

- (A) माघ (B) उद्योतन सूरी
- (C) सोमदेव (D) कालिदास
- (E) अनुत्तरित प्रश्न

45. उभरता राजस्थान वैश्विक निवेश सम्मेलन :-

- (a) 9, 10 और 11 दिसंबर 2024 को आयोजित किया गया था।
- (b) यह जयपुर प्रदर्शनी सम्मेलन केन्द्र में आयोजित किया गया था।
- (c) सम्मेलन केन्द्र सांगानेर, जयपुर में है।
- (d) तीन दिवसीय सम्मेलन में विषयात्मक सत्र, राष्ट्र सत्र और वैयक्तिक व्यवसायिक बैठकें हुई थीं।

नीचे दिए गए विकल्पों में से सबसे उपयुक्त उत्तर चुनें :

- (A) केवल (a), (b) और (c)
- (B) केवल (b), (c) और (d)
- (C) केवल (a), (b) और (d)
- (D) केवल (a) और (b)
- (E) अनुत्तरित प्रश्न

43. Arrange the following saints and folk God of Rajasthan chronologically according to their birth year :

- (a) Pabuji
- (b) Peepa
- (c) Dadu Dayal
- (d) Dev Narayanji

Choose the **most appropriate** answer from the options given below :

- (A) (a), (d), (c), (b) (B) (a), (d), (b), (c)
- (C) (a), (c), (b), (d) (D) (a), (b), (c), (d)
- (E) Question not attempted

44. Name the poet/writer, belonged to Bhinmal (Jalore) town and wrote 'Shishupal Vadh'.

- (A) Magh (B) Udhyotan Suri
- (C) Somdeva (D) Kalidas
- (E) Question not attempted

45. Rising Rajasthan Global investment summit was :

- (a) Organized on 9<sup>th</sup>, 10<sup>th</sup> and 11<sup>th</sup> December 2024.
- (b) It was organized in Jaipur exhibition convention center.
- (c) The convention center is in Sanganer, Jaipur.
- (d) In three days summit there were thematic sessions, country sessions and one-on-one business meetings.

Choose the **most appropriate** answer from the options given below :

- (A) (a), (b) and (c) only
- (B) (b), (c) and (d) only
- (C) (a), (b) and (d) only
- (D) (a) and (b) only
- (E) Question not attempted

46. नीचे दो कथन दिए गए हैं : एक अभिकथन A (Assertion A) के रूप में लिखित है तो दूसरा उसके कारण R (Reason R) के रूप में।

**अभिकथन A :**

शुष्क वन उन क्षेत्रों में पाये जाते हैं, जहाँ औसत वर्षा 50-100 सेमी रहती है।

**कारण R :**

यहाँ पाये जाने वाले पेड़ अबोनी (आबनूस) और जंगली आम हैं।

उपरोक्त कथनों के आलोक में, नीचे दिए गए विकल्पों में से सबसे उपयुक्त उत्तर का चयन कीजिए :

- (A) A और R दोनों सही हैं और R, A की सही व्याख्या है।  
(B) A और R दोनों सही हैं लेकिन R, A की सही व्याख्या नहीं है।  
(C) A सही है लेकिन R सही नहीं है।  
(D) A सही नहीं है लेकिन R सही है।  
(E) अनुत्तरित प्रश्न

47. पैरा ओलम्पिक टोक्यो, 2020 में राजस्थान के निम्नलिखित खिलाड़ियों ने पदक जीते :-

- (a) सुरेन्द्र सिंह गुर्जर  
(b) अवनी लेखरा  
(c) देवेन्द्र झाझड़िया  
(d) राज्यवर्धन सिंह राठौड़

नीचे दिए गए विकल्पों में से सबसे उपयुक्त उत्तर चुनें :

- (A) केवल (a), (b) और (c)  
(B) केवल (a), (b) और (d)  
(C) केवल (c), (a) और (d)  
(D) केवल (b), (c) और (d)  
(E) अनुत्तरित प्रश्न

Given below are two statements : one is labelled as **Assertion A** and the other is labelled as **Reason R**.

**Assertion A :**

Arid forest are found in areas where the average rainfall remains 50-100 cm.

**Reason R :**

The trees found here are Aboni and wild mango.

In the light of the above statements, choose the **most appropriate** answer from the options given below :

- (A) Both A and R are correct and R is the correct explanation of A.  
(B) Both A and R are correct but R is NOT the correct explanation of A.  
(C) A is correct but R is not correct.  
(D) A is not correct but R is correct.  
(E) Question not attempted

47. Following players of Rajasthan won medal in Paralympic Tokyo, 2020 :

- (a) Surender Singh Gurjar  
(b) Avni Lekhra  
(c) Devendra Jhajharia  
(d) Rajyavardhan Singh Rathore

Choose the **most appropriate** answer from the options given below :

- (A) (a), (b) and (c) Only  
(B) (a), (b) and (d) Only  
(C) (c), (a) and (d) Only  
(D) (b), (c) and (d) Only  
(E) Question not attempted

48. सूची I को सूची II से सुमेलित करें :

सूची I		सूची II	
(a)	भामाशाह योजना	(i)	2015-16
(b)	देवनारायण स्कूटी एवं प्रोत्साहन योजना	(ii)	2021
(c)	अंबेडकर छात्रवृत्ति योजना	(iii)	2014-15
(d)	मुख्यमंत्री हमारी बेटियाँ योजना	(iv)	2011-12

नीचे दिए गए विकल्पों में से सबसे उपयुक्त उत्तर चुनें :

- (A) (a)-(iii), (b)-(iv), (c)-(ii), (d)-(i)  
 (B) (a)-(iv), (b)-(iii), (c)-(i), (d)-(ii)  
 (C) (a)-(iv), (b)-(i), (c)-(iii), (d)-(ii)  
 (D) (a)-(iii), (b)-(i), (c)-(iv), (d)-(ii)  
 (E) अनुत्तरित प्रश्न

49. आधुनिक अलवर राज्य के निम्नलिखित कच्छवाहा शासकों को आरोही क्रम में व्यवस्थित करें :

- (a) मंगल सिंह प्रभाकर बहादुर  
 (b) बने सिंह प्रभाकर बहादुर  
 (c) जय सिंह प्रभाकर बहादुर  
 (d) श्योदान सिंह प्रभाकर बहादुर

नीचे दिए गए विकल्पों में से सबसे उपयुक्त उत्तर चुनें :

- (A) (a), (d), (b), (c) (B) (c), (a), (d), (b)  
 (C) (d), (b), (c), (a) (D) (b), (d), (a), (c)  
 (E) अनुत्तरित प्रश्न

48. Match List I with List II :

List I		List II	
(a)	Bhamashah Yojana	(i)	2015-16
(b)	Devnarayan Scooty & Incentive Scheme	(ii)	2021
(c)	Ambedkar Fellowship Scheme	(iii)	2014-15
(d)	Mukhyamantri Hamari Betiyan Yojana	(iv)	2011-12

Choose the **most appropriate** answer from the options given below :

- (A) (a)-(iii), (b)-(iv), (c)-(ii), (d)-(i)  
 (B) (a)-(iv), (b)-(iii), (c)-(i), (d)-(ii)  
 (C) (a)-(iv), (b)-(i), (c)-(iii), (d)-(ii)  
 (D) (a)-(iii), (b)-(i), (c)-(iv), (d)-(ii)  
 (E) Question not attempted

49. Arrange the following Kachwaha Rulers of Modern Alwar state in ascending order :

- (a) Mangal Singh Prabhakar Bahadur  
 (b) Bane Singh Prabhakar Bahadur  
 (c) Jai Singh Prabhakar Bahadur  
 (d) Sheodan Singh Prabhakar Bahadur

Choose the **most appropriate** answer from the options given below :

- (A) (a), (d), (b), (c) (B) (c), (a), (d), (b)  
 (C) (d), (b), (c), (a) (D) (b), (d), (a), (c)  
 (E) Question not attempted

50. नीचे दो कथन दिए गए हैं : एक अभिकथन A (Assertion A) के रूप में लिखित है तो दूसरा उसके कारण R (Reason R) के रूप में।

**अभिकथन A :**

नागरी/नगरी शिलालेख (424 AD) संस्कृत भाषा में है।

**कारण R :**

वर्तमान में यह आमेर दुर्ग संग्रहालय में संरक्षित है, गुहिल शासक अपराजित की वीरता का इसमें वर्णन किया गया है।

उपरोक्त कथनों के आलोक में, नीचे दिए गए विकल्पों में से **सबसे उपयुक्त** उत्तर का चयन कीजिए :

- (A) A और R दोनों सही हैं और R, A की सही व्याख्या है।  
(B) A और R दोनों सही हैं लेकिन R, A की सही व्याख्या नहीं है।  
(C) A सही है लेकिन R सही नहीं है।  
(D) A सही नहीं है लेकिन R सही है।  
(E) अनुत्तरित प्रश्न

51. राजस्थान में ऊँट संरक्षण योजना :

- (a) 2022-23 बजट में शुरूआत।  
(b) प्रधानमंत्री मोदी द्वारा इसकी घोषणा की गई थी।  
(c) नवजात ऊँट/टोलडे के जन्म पर 10,000 रूपए प्रति नवजात ऊँट/टोलडा प्रोत्साहन राशि प्रदान की जाएगी।  
(d) प्रोत्साहन राशि दो किशतों में प्रदान की जाएगी।  
(e) प्रत्येक किशत नकद प्रदान की जाएगी।

नीचे दिए गए विकल्पों में से **सबसे उपयुक्त** उत्तर चुनें :

- (A) केवल (a), (b) और (c)  
(B) केवल (b), (c) और (d)  
(C) केवल (a), (c), (d) और (e)  
(D) केवल (a), (c) और (d)  
(E) अनुत्तरित प्रश्न

50. Given below are two statements : one is labelled as **Assertion A** and the other is labelled as **Reason R**.

**Assertion A :**

The Nagari Rock Inscription (424 AD) is in Sanskrit language.

**Reason R :**

It is presently preserved at Amber Fort museum, Bravery of Guhil ruler Aparajit has been described on it.

In the light of the above statements, choose the **most appropriate** answer from the options given below :

- (A) Both A and R are correct and R is the correct explanation of A.  
(B) Both A and R are correct but R is NOT the correct explanation of A.  
(C) A is correct but R is not correct.  
(D) A is not correct but R is correct.  
(E) Question not attempted

51. Camel conservation scheme in Rajasthan :

- (a) Launched in 2022-23 budget.  
(b) It was announced by Prime Minister Modi.  
(c) Incentive of Rs. 10,000 /- each will be provided at the birth of calf.  
(d) Incentives will be provided in two installments.  
(e) Each installment will be given in cash.

Choose the **most appropriate** answer from the options given below :

- (A) (a), (b) and (c) only  
(B) (b), (c) and (d) only  
(C) (a), (c), (d) and (e) only  
(D) (a), (c) and (d) only  
(E) Question not attempted

52. स्थापना वर्ष के अनुसार निम्नलिखित को कालक्रम से व्यवस्थित करें :

- (a) शुष्क वन अनुसंधान संस्थान, जोधपुर
- (b) केन्द्रीय ऊन विकास बोर्ड, जोधपुर
- (c) केन्द्रीय कृषि फार्म, गंगानगर
- (d) भेड़-प्रजनन केन्द्र, सीकर

नीचे दिए गए विकल्पों में से सबसे उपयुक्त उत्तर चुनें :

- (A) (c), (d), (b), (a) (B) (b), (d), (c), (a)
- (C) (a), (b), (c), (d) (D) (d), (b), (c), (a)
- (E) अनुत्तरित प्रश्न

53. नीचे दो कथन दिए गए हैं : एक अभिकथन A (Assertion A) के रूप में लिखित है तो दूसरा उसके कारण R (Reason R) के रूप में।

**अभिकथन A :**

राजस्थान “खनिजों के अजायबघर” के रूप में प्रसिद्ध है।

**कारण R :**

गेरु/गेरिक खनिज केवल राजस्थान द्वारा उत्पादित किया जाता है।

उपरोक्त कथनों के आलोक में, नीचे दिए गए विकल्पों में से सबसे उपयुक्त उत्तर का चयन कीजिए

- (A) A और R दोनों सही हैं और R, A की सही व्याख्या है।
- (B) A और R दोनों सही हैं लेकिन R, A की सही व्याख्या नहीं है।
- (C) A सही है लेकिन R सही नहीं है।
- (D) A सही नहीं है लेकिन R सही है।
- (E) अनुत्तरित प्रश्न

52. According to establishment year, arrange them chronologically :

- (a) Arid forest research institute, Jodhpur
- (b) Central wool development board, Jodhpur
- (c) Central agricultural farm, Ganganagar
- (d) Sheep Breeding centre, Sikar

Choose the **most appropriate** answer from the options given below :

- (A) (c), (d), (b), (a) (B) (b), (d), (c), (a)
- (C) (a), (b), (c), (d) (D) (d), (b), (c), (a)
- (E) Question not attempted

53. Given below are two statements : one is labelled as **Assertion A** and the other is labelled as **Reason R**.

**Assertion A :**

Rajasthan is known as “A Museum of Minerals”.

**Reason R :**

Ochre mineral is only produced by Rajasthan.

In the light of the above statements, choose the **most appropriate** answer from the options given below :

- (A) Both A and R are correct and R is the correct explanation of A.
- (B) Both A and R are correct but R is NOT the correct explanation of A.
- (C) A is correct but R is not correct.
- (D) A is not correct but R is correct.
- (E) Question not attempted

54. नीचे दो कथन दिए गए हैं : एक **अभिकथन A** (**Assertion A**) के रूप में लिखित है तो दूसरा उसके **कारण R** (**Reason R**) के रूप में।

**अभिकथन A :**

कालीबंगा के कब्रगाह में छह (6) छेदों वाली बालक की खोपड़ी मिली है।

**कारण R :**

छेद/छिद्र, मस्तिष्क ज्वर के उपचार के सूचक हो सकते हैं।

उपरोक्त कथनों के आलोक में, नीचे दिए गए विकल्पों में से **सबसे उपयुक्त** उत्तर का चयन कीजिए :

- (A) **A** और **R** दोनों सही हैं और **R**, **A** की सही व्याख्या है।  
 (B) **A** और **R** दोनों सही हैं लेकिन **R**, **A** की सही व्याख्या नहीं है।  
 (C) **A** सही है लेकिन **R** सही नहीं है।  
 (D) **A** सही नहीं है लेकिन **R** सही है।  
 (E) अनुत्तरित प्रश्न

55. कौनसे कथन 'फड़ साहित्य' से संबंधित है ?

- (a) टोंक और जयपुर इसके लिए प्रसिद्ध हैं।  
 (b) पाबूजी, देवनारायण जी आदि लोक देवताओं के जीवन से कहानियों का निरूपण किया जाता है।  
 (c) पद्म श्री लाल जोशी ने इसे अंतर्राष्ट्रीय पहचान दी है।  
 (d) नुरुद्दीन द्वारा चित्रित 'कालिया दमन' फड़ चित्रण का सबसे प्रसिद्ध उदाहरण है।

नीचे दिए गए विकल्पों में से **सबसे उपयुक्त** उत्तर का चयन कीजिए :

- (A) केवल (a) और (c) (B) केवल (b) और (c)  
 (C) केवल (a) और (d) (D) केवल (b) और (d)  
 (E) अनुत्तरित प्रश्न

56. चैत्र कृष्ण सप्तमी और अष्टमी को जयपुर की चाकसू तहसील में कौनसा मेला लगता है?

- (A) कैला देवी (B) कपिल मुनि  
 (C) शीतला माता (D) डिग्गी कल्याण जी  
 (E) अनुत्तरित प्रश्न

54. Given below are two statements : one is labelled as **Assertion A** and the other is labelled as **Reason R**.

**Assertion A :**

A skull of a child with six holes has been found at the burial ground in Kalibangan.

**Reason R :**

The holes may have been the indication of treatment given for encephalitis.

In the light of the above statements, choose the **most appropriate** answer from the options given below :

- (A) Both **A** and **R** are correct and **R** is the correct explanation of **A**.  
 (B) Both **A** and **R** are correct but **R** is NOT the correct explanation of **A**.  
 (C) **A** is correct but **R** is not correct.  
 (D) **A** is not correct but **R** is correct.  
 (E) Question not attempted

55. Which statements belong to 'FAAD LITERATURE' ?

- (a) Tonk and Jaipur are famous for it.  
 (b) Stories from the life of Lok Devta as Pabuji, Dev Narayan ji etc. are depicted.  
 (c) Padma Shri Lal Joshi ji gave International recognition to it.  
 (d) 'Kaliya Daman' painted by Nuruddin is one of the most famous FAAD painting.

Choose the **most appropriate** answer from the options given below :

- (A) (a) and (c) only (B) (b) and (c) only  
 (C) (a) and (d) only (D) (b) and (d) only  
 (E) Question not attempted

56. On Chaitra Krishna Saptami and Ashtami in Chaksu Tehsil of Jaipur the fair celebrated is of :

- (A) Kaila Devi (B) Kapil Muni  
 (C) Sheetla Mata (D) Diggi Kalyanji  
 (E) Question not attempted

57. बांसवाड़ा में माही बांध किसके किनारे स्थित है?

- (A) माही नदी (B) लूणी नदी  
(C) सांभर नदी (D) गंगा नदी  
(E) अनुत्तरित प्रश्न

58. सूची I को सूची II से सुमेलित करें :

सूची I		सूची II	
(a)	लहरिया पगड़ी	(i)	विवाह
(b)	मोठड़ा पगड़ी	(ii)	होली
(c)	मदील पगड़ी	(iii)	सावण/श्रावण
(d)	अलंकृत छपाई पगड़ी	(iv)	दशहरा

नीचे दिए गए विकल्पों में से सबसे उपयुक्त उत्तर चुनें :

- (A) (a)-(ii), (b)-(i), (c)-(iv), (d)-(iii)  
(B) (a)-(i), (b)-(iii), (c)-(iv), (d)-(ii)  
(C) (a)-(iii), (b)-(i), (c)-(iv), (d)-(ii)  
(D) (a)-(iv), (b)-(ii), (c)-(i), (d)-(iii)  
(E) अनुत्तरित प्रश्न

59. निम्नलिखित योजनाओं/नीतियों को कालक्रमानुसार व्यवस्थित करें :

- (a) निपुण भारत  
(b) पढ़े भारत  
(c) बेटी बचाओ बेटी पढ़ाओ  
(d) निष्ठा

नीचे दिए गए विकल्पों में से सबसे उपयुक्त उत्तर चुनें :

- (A) (a), (b), (c), (d) (B) (a), (c), (d), (b)  
(C) (b), (c), (d), (a) (D) (b), (c), (a), (d)  
(E) अनुत्तरित प्रश्न

57. Mahi dam in Banswara is situated on the bank of :

- (A) Mahi River (B) Luni River  
(C) Sambhar River (D) Ganga River  
(E) Question not attempted

58. Match List I with List II :

List I		List II	
(a)	Lahariya turban	(i)	Marriages
(b)	Mothda turban	(ii)	Holi
(c)	Madeel turban	(iii)	Sharvan
(d)	Floral prints turban	(iv)	Dussehra

Choose the **most appropriate** answer from the options given below :

- (A) (a)-(ii), (b)-(i), (c)-(iv), (d)-(iii)  
(B) (a)-(i), (b)-(iii), (c)-(iv), (d)-(ii)  
(C) (a)-(iii), (b)-(i), (c)-(iv), (d)-(ii)  
(D) (a)-(iv), (b)-(ii), (c)-(i), (d)-(iii)  
(E) Question not attempted

59. Arrange the following schemes/policies in chronological order :

- (a) Nipun Bharat  
(b) Padhe Bharat  
(c) Beti Bachao Beti Padhao  
(d) NISTHA

Choose the **most appropriate** answer from the options given below :

- (A) (a), (b), (c), (d) (B) (a), (c), (d), (b)  
(C) (b), (c), (d), (a) (D) (b), (c), (a), (d)  
(E) Question not attempted

60. राजस्थान की विश्वास योजना :-

- (a) स्वास्थ्य और परिवार कल्याण विभाग द्वारा क्रियान्वयन।
- (b) ऋण का 50% अथवा अधिकतम 50,000 रूपए जो भी कम हो, प्रदान किया जायेगा।
- (c) यह योजना दिव्यांग पुरुषों/महिलाओं के लिए है।
- (d) अधिकतम 5 लाख रुपये तक ऋण दिव्यांगजनों को दिया जा रहा है।
- (e) अर्हता के लिए, मासिक आय 1000 रूपए प्रति माह से अधिक नहीं होनी चाहिए।

नीचे दिए गए विकल्पों में से सबसे उपयुक्त उत्तर चुनें :

- (A) केवल (a), (b) और (c)
- (B) केवल (b), (c) और (d)
- (C) केवल (c), (d) और (e)
- (D) केवल (a) और (e)
- (E) अनुत्तरित प्रश्न

61. निम्नलिखित कथन बीकानेर शहर से संबंधित हैं :

- (a) यह पहाड़ी ढाल पर निर्मित किया गया था।
- (b) पेशों/व्यवसायों के आधार पर शहर विभाजित किया गया था।
- (c) आर्थिक क्रियाकलापों को सुगम बनाने और व्यापार को बढ़ावा देने के लिए हाट और बाजार बनाए गए थे।
- (d) शहर के दोनों छोर पर, दो चौपट्ट हैं।

नीचे दिए गए विकल्पों में से सबसे उपयुक्त उत्तर चुनें :

- (A) केवल (a) और (b) (B) केवल (b) और (d)
- (C) केवल (c) और (d) (D) केवल (b) और (c)
- (E) अनुत्तरित प्रश्न

60. Vishwas Yojana of Rajasthan :

- (a) Implemented by Health and Family Welfare Department.
- (b) A grant of 50% of loan or a maximum Rs. 50,000/-whichever is less, will be provided.
- (c) This scheme is for specially abled persons.
- (d) Loan of upto 5 lakh is being provided to specially abled persons.
- (e) For eligibility monthly income should not exceed Rs. 1,000/- per month.

Choose the **most appropriate** answer from the options given below :

- (A) (a), (b) and (c) only
- (B) (b), (c) and (d) only
- (C) (c), (d) and (e) only
- (D) (a) and (e) only
- (E) Question not attempted

61. The statements belong to Bikaner city :

- (a) It was built on hilly slopes.
- (b) The city was divided on the basis of professions.
- (c) The haats and markets were built to facilitate economic activities and promotion of trade.
- (d) At both the ends of the city, there are two chaupads.

Choose the **most appropriate** answer from the options given below :

- (A) (a) and (b) only (B) (b) and (d) only
- (C) (c) and (d) only (D) (b) and (c) only
- (E) Question not attempted

62. नीचे दो कथन दिए गए हैं : एक अभिकथन A (Assertion A) के रूप में लिखित है तो दूसरा उसके कारण R (Reason R) के रूप में।

**अभिकथन A :**

“अढ़ाई दिन का झोंपड़ा” नामक भवन मूलतः विग्रहराज IV द्वारा निर्मित संस्कृत पाठशाला थी।

**कारण R :**

यह भवन हिन्दू-इस्लामी वास्तुकला का नमूना है।

उपरोक्त कथनों के आलोक में, नीचे दिए गए विकल्पों में से सबसे उपयुक्त उत्तर का चयन कीजिए :

- (A) A और R दोनों सही हैं और R, A की सही व्याख्या है।
- (B) A और R दोनों सही हैं लेकिन R, A की सही व्याख्या नहीं है।
- (C) A सही है लेकिन R सही नहीं है।
- (D) A सही नहीं है लेकिन R सही है।
- (E) अनुत्तरित प्रश्न

63. नीचे दो कथन दिए गए हैं : एक अभिकथन A (Assertion A) के रूप में लिखित है तो दूसरा उसके कारण R (Reason R) के रूप में।

**अभिकथन A :**

घर-घर औषधि योजना के अंतर्गत तुलसी, अश्वगंधा, गिलोय और कालमेघ के पौधे प्रदान किए जाएँगे।

**कारण R :**

योजना जन प्रतिनिधियों के सहयोग से सार्वजनिक अभियान के रूप में कार्यान्वित की जाएगी।

उपरोक्त कथनों के आलोक में, नीचे दिए गए विकल्पों में से सबसे उपयुक्त उत्तर का चयन कीजिए :

- (A) A और R दोनों सही हैं और R, A की सही व्याख्या है।
- (B) A और R दोनों सही हैं लेकिन R, A की सही व्याख्या नहीं है।
- (C) A सही है लेकिन R सही नहीं है।
- (D) A सही नहीं है लेकिन R सही है।
- (E) अनुत्तरित प्रश्न

62. Given below are two statements : one is labelled as **Assertion A** and the other is labelled as **Reason R**.

**Assertion A :**

The building called “Adhai Din Ka Jhonpra” was originally Sanskrit college built by Vigraharaja IV.

**Reason R :**

This building is a sample of Hindu and Islamic architecture.

In the light of the above statements, choose the **most appropriate** answer from the options given below :

- (A) Both **A** and **R** are correct and **R** is the correct explanation of **A**.
- (B) Both **A** and **R** are correct but **R** is NOT the correct explanation of **A**.
- (C) **A** is correct but **R** is not correct.
- (D) **A** is not correct but **R** is correct.
- (E) Question not attempted

63. Given below are two statements : one is labelled as **Assertion A** and the other is labelled as **Reason R**.

**Assertion A :**

Under door to door medicine scheme plants of Tulsi, Ashwagandha, Giloy and Kalmegh will be distributed.

**Reason R :**

The scheme will be implemented as public campaign with cooperation of public representatives.

In the light of the above statements, choose the **most appropriate** answer from the options given below :

- (A) Both **A** and **R** are correct and **R** is the correct explanation of **A**.
- (B) Both **A** and **R** are correct but **R** is NOT the correct explanation of **A**.
- (C) **A** is correct but **R** is not correct.
- (D) **A** is not correct but **R** is correct.
- (E) Question not attempted

64. राजस्थान के निम्नलिखित जिलों को दक्षिण से उत्तर के क्रम में बढ़ते हुए अक्षांश के अनुसार व्यवस्थित करें।
- (a) झालावाड़  
(b) झुंझुनूं  
(c) जोधपुर  
(d) सवाई माधोपुर
- नीचे दिए गए विकल्पों में से **सबसे उपयुक्त** उत्तर चुनें :
- (A) (a), (d), (c), (b) (B) (a), (c), (b), (d)  
(C) (a), (b), (d), (c) (D) (d), (c), (b), (a)  
(E) अनुत्तरित प्रश्न
65. राजस्थान, भारत के उत्तर-पश्चिम में स्थित है। इसका आकार कैसा है?
- नीचे दिए गए विकल्पों में से **सबसे उपयुक्त** उत्तर चुनें :
- (A) गेंद की तरह (B) पतंग की तरह  
(C) प्लेट की तरह (D) प्याला की तरह  
(E) अनुत्तरित प्रश्न
66. राजस्थान निःशुल्क और अनिवार्य शिक्षा का अधिकार नियम, 2011 के अनुसार स्थानीय प्राधिकारी अपने अधिकार क्षेत्र में, घर - घर सर्वेक्षण के माध्यम से, सभी बालकों का उनके जन्म से लेकर कितने वर्ष की आयु पूर्ण करने तक रिकॉर्ड रखेंगे ?
- (A) 12 वर्ष (B) 16 वर्ष  
(C) 14 वर्ष (D) 18 वर्ष  
(E) अनुत्तरित प्रश्न
67. पुरन्दर की संधि पर किस वर्ष हस्ताक्षर हुए थे ?
- (A) 1665 AD (B) 1668 AD  
(C) 1695 AD (D) 1756 AD  
(E) अनुत्तरित प्रश्न
68. 15 अगस्त 2025 को कहाँ पर आयोजित स्वतंत्रता दिवस समारोह में दिव्यांश एम. भारद्वाज को “राजस्थान का सर्वश्रेष्ठ सरपंच” का पुरस्कार दिया गया था ?
- (A) आमेर दुर्ग (B) कुंभलगढ़ दुर्ग  
(C) जैसलमेर दुर्ग (D) मेहरानगढ़ दुर्ग  
(E) अनुत्तरित प्रश्न
64. Arrange the following districts of Rajasthan according to increasing latitude from south to north.
- (a) Jhalawar  
(b) Jhunjhunu  
(c) Jodhpur  
(d) Sawai Madhopur
- Choose the **most appropriate** answer from the options given below :
- (A) (a), (d), (c), (b) (B) (a), (c), (b), (d)  
(C) (a), (b), (d), (c) (D) (d), (c), (b), (a)  
(E) Question not attempted
65. Rajasthan lies in North-West of India. It is having the shape of :
- Choose the **most appropriate** answer from the options given below :
- (A) Ball (B) Kite  
(C) Plate (D) Bowl  
(E) Question not attempted
66. According to the Rajasthan Right of Children to Free and Compulsory Education Rules 2011, the local authority shall maintain a record of all the children in its jurisdiction, through a household survey from their birth till they attain the age of which year ?
- (A) 12 years (B) 16 years  
(C) 14 years (D) 18 years  
(E) Question not attempted
67. In which year treaty of Purandar was signed ?
- (A) 1665 AD (B) 1668 AD  
(C) 1695 AD (D) 1756 AD  
(E) Question not attempted
68. Divyansh M. Bhardwaj was given the title of “Best Sarpanch of Rajasthan” during Independence Day celebration on 15 Aug 2025 at :
- (A) Amber Fort (B) Kumbhalgarh Fort  
(C) Jaisalmer Fort (D) Mehrangarh Fort  
(E) Question not attempted

69. राजस्थान में 1857 की क्रांति को कालक्रम में व्यवस्थित करें :

- (a) कोटा में क्रांति  
(b) नसीराबाद में क्रांति  
(c) एरिनपुर में क्रांति  
(d) नीमच में क्रांति

नीचे दिए गए विकल्पों में से सबसे उपयुक्त उत्तर चुनें :

- (A) (c), (d), (a), (b) (B) (b), (a), (c), (d)  
(C) (b), (d), (c), (a) (D) (c), (b), (a), (d)  
(E) अनुत्तरित प्रश्न

70. राजस्थान का कौनसा मेला “आदिवासियों का कुम्भ” कहा जाता है ?

- (A) गलियाकोट उर्स (B) बेणेश्वर मेला  
(C) कपिल मुनि मेला (D) भर्तृहरि मेला  
(E) अनुत्तरित प्रश्न

71. सूची I को सूची II से सुमेलित करें :

सूची I (विद्युत संयंत्र)		सूची II (लगभग क्षमता)	
(a)	धौलपुर संयुक्त चक्र विद्युत स्टेशन	(i)	172 MW
(b)	राणा प्रताप सागर बांध	(ii)	1180 MW
(c)	राजस्थान परमाणु विद्युत स्टेशन-रावतभाटा	(iii)	330 MW
(d)	नोख सौर पार्क	(iv)	980 MW

नीचे दिए गए विकल्पों में से सबसे उपयुक्त उत्तर चुनें :

- (A) (a)-(i), (b)-(iii), (c)-(ii), (d)-(iv)  
(B) (a)-(i), (b)-(ii), (c)-(iii), (d)-(iv)  
(C) (a)-(iii), (b)-(i), (c)-(ii), (d)-(iv)  
(D) (a)-(iv), (b)-(iii), (c)-(ii), (d)-(i)  
(E) अनुत्तरित प्रश्न

69. Arrange the revolt of 1857 in Rajasthan in chronological order :

- (a) Revolt at Kota  
(b) Revolt at Naseerabad  
(c) Revolt at Erinpura  
(d) Revolt at Neemach

Choose the **most appropriate** answer from the options given below :

- (A) (c), (d), (a), (b) (B) (b), (a), (c), (d)  
(C) (b), (d), (c), (a) (D) (c), (b), (a), (d)  
(E) Question not attempted

70. Which fair of Rajasthan is called the 'Kumbh of Tribals' ?

- (A) Galiyakot Urs (B) Beneshwar Fair  
(C) Kapil Muni Fair (D) Bhartrhari Fair  
(E) Question not attempted

71. Match List I with List II :

List I (Power Plant)		List II (Approx Capacity)	
(a)	Dholpur combined cycle power station	(i)	172 MW
(b)	Rana Pratap Sagar Dam	(ii)	1180 MW
(c)	Rajasthan Atomic Power Station - Ravatbhata	(iii)	330 MW
(d)	NOKH Solar Park	(iv)	980 MW

Choose the **most appropriate** answer from the options given below :

- (A) (a)-(i), (b)-(iii), (c)-(ii), (d)-(iv)  
(B) (a)-(i), (b)-(ii), (c)-(iii), (d)-(iv)  
(C) (a)-(iii), (b)-(i), (c)-(ii), (d)-(iv)  
(D) (a)-(iv), (b)-(iii), (c)-(ii), (d)-(i)  
(E) Question not attempted

72. नीचे दो कथन दिए गए हैं : एक **अभिकथन A** (**Assertion A**) के रूप में लिखित है तो दूसरा उसके **कारण R** (**Reason R**) के रूप में।

**अभिकथन A :**

कजली तीज भाद्रपद कृष्ण तृतीया को बून्दी में मनाई जाती है।

**कारण R :**

अलंकृत पालकियों में तीज का मनोहारी जुलूस पिछोला झील के मनोहारी गणगौर घाट से शुरू होता है और नौकायन एवं आतिशबाजी के साथ समाप्त होता है।

उपरोक्त कथनों के आलोक में, नीचे दिए गए विकल्पों में से **सबसे उपयुक्त** उत्तर का चयन कीजिए :

- (A) **A** और **R** दोनों सही हैं और **R**, **A** की सही व्याख्या है।  
 (B) **A** और **R** दोनों सही हैं लेकिन **R**, **A** की सही व्याख्या नहीं है।  
 (C) **A** सही है लेकिन **R** सही नहीं है।  
 (D) **A** सही नहीं है लेकिन **R** सही है।  
 (E) अनुत्तरित प्रश्न

73. सूची I को सूची II से सुमेलित करें :

सूची I		सूची II	
(a)	राजपूताना का कर्ण	(i)	राव लूणकरण
(b)	कलयुग का कर्ण	(ii)	राव करण सिंह
(c)	कविबाँधव	(iii)	राव राय सिंह
(d)	जांगलधर बादशाह	(iv)	विग्रहराज IV

नीचे दिए गए विकल्पों में से **सबसे उपयुक्त** उत्तर चुनें :

- (A) (a)-(iii), (b)-(ii), (c)-(i), (d)-(iv)  
 (B) (a)-(ii), (b)-(iii), (c)-(i), (d)-(iv)  
 (C) (a)-(iii), (b)-(i), (c)-(iv), (d)-(ii)  
 (D) (a)-(iv), (b)-(iii), (c)-(ii), (d)-(i)  
 (E) अनुत्तरित प्रश्न

72. Given below are two statements : one is labelled as **Assertion A** and the other is labelled as **Reason R**.

**Assertion A :**

Kajli Teej is celebrated in Bundi on Bhadrapad Krishna Tiritiya.

**Reason R :**

The joyful procession of Teej in decorated palanquins starts from the picturesque Gangaur Ghat of Pichola Lake and ends up after boating and display of fireworks.

In the light of the above statements, choose the **most appropriate** answer from the options given below :

- (A) Both **A** and **R** are correct and **R** is the correct explanation of **A**.  
 (B) Both **A** and **R** are correct but **R** is NOT the correct explanation of **A**.  
 (C) **A** is correct but **R** is not correct.  
 (D) **A** is not correct but **R** is correct.  
 (E) Question not attempted

73. Match List I with List II :

List I		List II	
(a)	Karna of Rajputana	(i)	Rao Lunakarna
(b)	Karna of Kalyug	(ii)	Rao Karan Singh
(c)	Kavibandhava	(iii)	Rao Rai Singh
(d)	Jangaldhar Badshah	(iv)	Vigraharaj IV

Choose the **most appropriate** answer from the options given below :

- (A) (a)-(iii), (b)-(ii), (c)-(i), (d)-(iv)  
 (B) (a)-(ii), (b)-(iii), (c)-(i), (d)-(iv)  
 (C) (a)-(iii), (b)-(i), (c)-(iv), (d)-(ii)  
 (D) (a)-(iv), (b)-(iii), (c)-(ii), (d)-(i)  
 (E) Question not attempted

74. संगीत उपकरण पूंगी किस जनजाति द्वारा मुख्यतः प्रयुक्त होती है?  
नीचे दिए गए विकल्पों में से सबसे उपयुक्त उत्तर चुनें :
- (A) भील (B) कालबेलिया  
(C) मीणा (D) सहरिया  
(E) अनुत्तरित प्रश्न

75. नीचे दो कथन दिए गए हैं : एक अभिकथन A (Assertion A) के रूप में लिखित है तो दूसरा उसके कारण R (Reason R) के रूप में।

**अभिकथन A :**

खेजड़ी वृक्ष ने भी चिपको आंदोलन को प्रेरित किया था।

**कारण R :**

अमृता देवी के नेतृत्व में लगभग 363 पुरुषों और महिलाओं ने खेजड़ी की रक्षा करते हुए अपने प्राणों का बलिदान दिया था।

उपरोक्त कथनों के आलोक में, नीचे दिए गए विकल्पों में से सबसे उपयुक्त उत्तर का चयन कीजिए :

- (A) A और R दोनों सही हैं और R, A की सही व्याख्या है।  
(B) A और R दोनों सही हैं लेकिन R, A की सही व्याख्या नहीं है।  
(C) A सही है लेकिन R सही नहीं है।  
(D) A सही नहीं है लेकिन R सही है।  
(E) अनुत्तरित प्रश्न

76. सूची I को सूची II से सुमेलित करें :

सूची I (मृदा)		सूची II (अभिलक्षण)	
(a)	नवीन जलोढ़ मृदा	(i)	नाइट्रोजन और पोटैश की कमी
(b)	काली मिट्टी	(ii)	खादर
(c)	लेटेराइट मिट्टी	(iii)	कंकड़ और पत्थर
(d)	पर्वतीय मिट्टी	(iv)	पोटैश और लाइम (चूने) की प्रचुरता

नीचे दिए गए विकल्पों में से सबसे उपयुक्त उत्तर चुनें :

- (A) (a)-(ii), (b)-(iv), (c)-(i), (d)-(iii)  
(B) (a)-(i), (b)-(ii), (c)-(iii), (d)-(iv)  
(C) (a)-(iv), (b)-(iii), (c)-(ii), (d)-(i)  
(D) (a)-(ii), (b)-(iv), (c)-(iii), (d)-(i)  
(E) अनुत्तरित प्रश्न

74. The musical instrument Pungi is mainly used by the tribe :  
Choose the **most appropriate** answer from the options given below :

- (A) Bheels (B) Kalbelias  
(C) Meena (D) Sahariya  
(E) Question not attempted

75. Given below are two statements : one is labelled as **Assertion A** and the other is labelled as **Reason R**

**Assertion A :**

The Khejri tree also inspired Chipko movement.

**Reason R :**

About 363 men and women led by Amrita Devi sacrificed their lives while trying to protect Khejri.

In the light of the above statements, choose the **most appropriate** answer from the options given below :

- (A) Both A and R are correct and R is the correct explanation of A.  
(B) Both A and R are correct but R is NOT the correct explanation of A.  
(C) A is correct but R is not correct.  
(D) A is not correct but R is correct.  
(E) Question not attempted

76. Match List I with List II :

List I (Soil)		List II (Characteristic)	
(a)	New Alluvial Soil	(i)	Lacks in nitrogen and potash
(b)	Black Soil	(ii)	Khadar
(c)	Laterite Soil	(iii)	Pebbles and stones.
(d)	Montane Soil	(iv)	Rich in potash and lime

Choose the **most appropriate** answer from the options given below :

- (A) (a)-(ii), (b)-(iv), (c)-(i), (d)-(iii)  
(B) (a)-(i), (b)-(ii), (c)-(iii), (d)-(iv)  
(C) (a)-(iv), (b)-(iii), (c)-(ii), (d)-(i)  
(D) (a)-(ii), (b)-(iv), (c)-(iii), (d)-(i)  
(E) Question not attempted

77. नीचे दो कथन दिए गए हैं : एक **अभिकथन A** (**Assertion A**) के रूप में लिखित है तो दूसरा उसके **कारण R** (**Reason R**) के रूप में।

**अभिकथन A :**

महाराजा सूरजमल को जाटों का प्लेटों/जाट यूलीसैस कहा जाता है।

**कारण R :**

उन्होंने खेमकरण को पराजित करके भरतपुर दुर्ग कब्जा किया तथा भरतपुर की नींव रखी।

उपरोक्त कथनों के आलोक में, नीचे दिए गए विकल्पों में से **सबसे उपयुक्त** उत्तर का चयन कीजिए :

- (A) **A** और **R** दोनों सही हैं और **R**, **A** की सही व्याख्या है।  
 (B) **A** और **R** दोनों सही हैं लेकिन **R**, **A** की सही व्याख्या नहीं है।  
 (C) **A** सही है लेकिन **R** सही नहीं है।  
 (D) **A** सही नहीं है लेकिन **R** सही है।  
 (E) अनुत्तरित प्रश्न

78. स्कूल विकास योजना (SDP) के संदर्भ में निम्न में से **क्या सही है ?**

- (a) एसडीपी, स्कूल के सभी पहलुओं पर अभिकेन्द्रित एक समग्र योजना के रूप में परिकल्पित किया गया है।  
 (b) आरटीई एक्ट - 2009 इस संबंध में एक्ट की धारा 22 के अंतर्गत उपबंध प्रदान करता है।  
 (c) यह बाल अधिकारों के संरक्षण, अवसंरचना और शिक्षक उपलब्धता आदि पर अभिकेन्द्रित है।  
 (d) एसडीपी उसी स्कूल के अध्यापकों द्वारा तैयार किया जाता है।

नीचे दिए गए विकल्पों में से **सबसे उपयुक्त** उत्तर चुनें :

- (A) केवल (a), (b), (d) (B) केवल (a), (b), (c)  
 (C) केवल (b), (c), (d) (D) केवल (a), (c), (d)  
 (E) अनुत्तरित प्रश्न

77. Given below are two statements : one is labelled as **Assertion A** and the other is labelled as **Reason R**

**Assertion A :**

Maharaja Suraj Mal is called as Plato of Jat/Jat Ulysses.

**Reason R :**

He captured the fort of Bharatpur by vanquishing Khemkaran and laid the foundation for Bharatpur.

In the light of the above statements, choose the **most appropriate** answer from the options given below :

- (A) Both **A** and **R** are correct and **R** is the correct explanation of **A**.  
 (B) Both **A** and **R** are correct but **R** is NOT the correct explanation of **A**.  
 (C) **A** is correct but **R** is not correct.  
 (D) **A** is not correct but **R** is correct.  
 (E) Question not attempted

78. Which of the following are **correct** about School Development Plan (SDP) ?

- (a) The SDP is visualized as a comprehensive plan focusing on all aspects of school.  
 (b) RTE Act-2009 provides provision in this regard under section 22 of the act.  
 (c) It focuses on protection of children rights, infrastructure and teacher availability etc.  
 (d) SDP is prepared by the teachers of that school.

Choose the **most appropriate** answer from the options given below :

- (A) (a), (b), (d) only (B) (a), (b), (c) only  
 (C) (b), (c), (d) only (D) (a), (c), (d) only  
 (E) Question not attempted

79. सूची I को सूची II से सुमेलित करें :

सूची I		सूची II	
(a)	हाड़ौती प्रजामंडल	(i)	माणिक्यलाल वर्मा
(b)	मेवाड़ प्रजामंडल	(ii)	त्रिलोकचंद माथुर
(c)	करौली प्रजामंडल	(iii)	मिठालाल व्यास
(d)	जैसलमेर प्रजामंडल	(iv)	नयनुराम शर्मा

नीचे दिए गए विकल्पों में से सबसे उपयुक्त उत्तर चुनें :

- (A) (a)-(iv), (b)-(i), (c)-(ii), (d)-(iii)  
 (B) (a)-(iii), (b)-(ii), (c)-(i), (d)-(iv)  
 (C) (a)-(iv), (b)-(ii), (c)-(iii), (d)-(i)  
 (D) (a)-(iii), (b)-(iv), (c)-(i), (d)-(ii)  
 (E) अनुत्तरित प्रश्न

80. भीलवाड़ा जिला में, शाहपुरा का जोशी परिवार किस लोक कला का परंपरागत कलाकार रहा है ?

- (A) मांडणा (B) फड़  
 (C) सांझी (D) कवड़  
 (E) अनुत्तरित प्रश्न

81. हिन्दुओं के द्वारा किनको श्रीकृष्ण के अवतार और मुस्लिमों के द्वारा रामसा-पीर के रूप में पूजा जाता है ?

- (A) मल्लीनाथ जी (B) देवनारायण जी  
 (C) गोगाजी (D) रामदेवजी  
 (E) अनुत्तरित प्रश्न

82. राष्ट्रीय उद्यान को उनके मूल जिला से मिलान करें :

सूची I (राष्ट्रीय उद्यान)		सूची II (जिला)	
(a)	रणथंभोर राष्ट्रीय उद्यान	(i)	अलवर
(b)	केवलादेव राष्ट्रीय उद्यान	(ii)	सवाई माधोपुर
(c)	सरिस्का राष्ट्रीय उद्यान	(iii)	भरतपुर
(d)	मुकुन्द्र पहाड़ी राष्ट्रीय उद्यान	(iv)	कोटा

नीचे दिए गए विकल्पों में से सबसे उपयुक्त उत्तर चुनें :

- (A) (a)-(i), (b)-(ii), (c)-(iii), (d)-(iv)  
 (B) (a)-(ii), (b)-(iii), (c)-(i), (d)-(iv)  
 (C) (a)-(iv), (b)-(iii), (c)-(ii), (d)-(i)  
 (D) (a)-(iii), (b)-(iv), (c)-(ii), (d)-(i)  
 (E) अनुत्तरित प्रश्न

79. Match List I with List II :

List I		List II	
(a)	Hadoti Praja Mandal	(i)	Manikyalal Verma
(b)	Mewar Praja Mandal	(ii)	Trilok Chand Mathur
(c)	Karauli Praja Mandal	(iii)	Mithalal Vyas
(d)	Jaisalmer Praja Mandal	(iv)	Nayanuram Sharma

Choose the **most appropriate** answer from the options given below :

- (A) (a)-(iv), (b)-(i), (c)-(ii), (d)-(iii)  
 (B) (a)-(iii), (b)-(ii), (c)-(i), (d)-(iv)  
 (C) (a)-(iv), (b)-(ii), (c)-(iii), (d)-(i)  
 (D) (a)-(iii), (b)-(iv), (c)-(i), (d)-(ii)  
 (E) Question not attempted

80. The Joshi families of Shahpura in Bhilwara district have been the traditional artists of folk art form :

- (A) Mandana (B) Phad  
 (C) Sanji (D) Kavad  
 (E) Question not attempted

81. Who is worshipped by Hindus as an incarnation of Shri Krishna and by Muslims as Ramsa-Pir ?

- (A) Mallinathji (B) Devnarayanji  
 (C) Gogaji (D) Ramdevji  
 (E) Question not attempted

82. Match the National Park with its Primary District.

List - I (National Park)		List - II (District)	
(a)	Ranathambore National Park	(i)	Alwar
(b)	Keoladeo National Park	(ii)	Sawai Madhopur
(c)	Sariska National Park	(iii)	Bharatpur
(d)	Mukundra Hills National Park	(iv)	Kota

Choose the **most appropriate** answer from the options given below :

- (A) (a)-(i), (b)-(ii), (c)-(iii), (d)-(iv)  
 (B) (a)-(ii), (b)-(iii), (c)-(i), (d)-(iv)  
 (C) (a)-(iv), (b)-(iii), (c)-(ii), (d)-(i)  
 (D) (a)-(iii), (b)-(iv), (c)-(ii), (d)-(i)  
 (E) Question not attempted

83. एनईपी-2020 के अनुसार नवीन स्कूल संरचना के चरणों को व्यवस्थित करें :
- (a) तैयारी/शुरूआती चरण  
(b) माध्यमिक चरण  
(c) मध्यम चरण  
(d) आधारभूत चरण
- नीचे दिए गए विकल्पों में से **सबसे उपयुक्त** उत्तर चुनें :
- (A) (d), (a), (c), (b) (B) (d), (c), (a), (b)  
(C) (a), (d), (b), (c) (D) (a), (d), (c), (b)  
(E) अनुत्तरित प्रश्न
84. नीचे दो कथन दिए गए हैं : एक **अभिकथन A** (Assertion A) के रूप में लिखित है तो दूसरा उसके कारण **R** (Reason R) के रूप में।
- अभिकथन A :**  
गुर्जरी से राजस्थान और गुजरात की सर्वसामान्य भाषा मारू-गुर्जर विकसित हुई थी।
- कारण R :**  
बाद में राजस्थानी और गुजराती विभेदित होना शुरू हो गई तथा पश्चात्पूर्वी शताब्दियों में विशिष्ट राजस्थानी भाषा (मारू-भाषा) (डिंगल) विकसित हुई।
- उपरोक्त कथनों के आलोक में, नीचे दिए गए विकल्पों में से **सबसे उपयुक्त** उत्तर का चयन कीजिए :
- (A) **A** और **R** दोनों सही हैं और **R**, **A** की सही व्याख्या है।  
(B) **A** और **R** दोनों सही हैं लेकिन **R**, **A** की सही व्याख्या नहीं है।  
(C) **A** सही है लेकिन **R** सही नहीं है।  
(D) **A** सही नहीं है लेकिन **R** सही है।  
(E) अनुत्तरित प्रश्न
83. Arrange the stages of new school structure as per the NEP-2020 :
- (a) Preparatory stage  
(b) Secondary stage  
(c) Middle stage  
(d) Foundational stage
- Choose the **most appropriate** answer from the options given below :
- (A) (d), (a), (c), (b) (B) (d), (c), (a), (b)  
(C) (a), (d), (b), (c) (D) (a), (d), (c), (b)  
(E) Question not attempted
84. Given below are two statements : one is labelled as **Assertion A** and the other is labelled as **Reason R**.
- Assertion A :**  
From Gurjari developed Maru-Gurjar, is a common language of Rajasthan and Gujarat.
- Reason R :**  
Later on Rajasthani and Gujarati started to get differentiated and in subsequent centuries distinct Rajasthani language (Maru-Bhasha) (Dingal) developed.
- In the light of the above statements, choose the **most appropriate** answer from the options given below :
- (A) Both **A** and **R** are correct and **R** is the correct explanation of **A**.  
(B) Both **A** and **R** are correct but **R** is NOT the correct explanation of **A**.  
(C) **A** is correct but **R** is not correct.  
(D) **A** is not correct but **R** is correct.  
(E) Question not attempted
85. “वन की आशा” किस नदी को कहा जाता है?
- (A) बनास नदी (B) सरस्वती नदी  
(C) कांतली नदी (D) काकनी नदी  
(E) अनुत्तरित प्रश्न
85. The River called as “Hope of the forest” :
- (A) Banas River (B) Saraswati River  
(C) Kantli River (D) Kakni River  
(E) Question not attempted

86. राजस्थान की सबसे अधिक प्रयुक्त की जाने वाली बोली कौनसी है ?

नीचे दिए गए विकल्पों में से **सबसे उपयुक्त** उत्तर चुनें :

- (A) डूँड़ाड़ी (B) मेवाती  
(C) बागड़ी (D) मारवाड़ी  
(E) अनुत्तरित प्रश्न

87. सूची I को सूची II से सुमेलित करें :

सूची I		सूची II	
(a)	आचार्य नानेश मुनि	(i)	अणुव्रत आंदोलन
(b)	आचार्य तुलसी	(ii)	रूपायन संस्थान
(c)	कोमल कोठारी	(iii)	जयपुर फुट
(d)	डॉ. पी. के. सेठी	(iv)	समता दर्शन

नीचे दिए गए विकल्पों में से **सबसे उपयुक्त** उत्तर चुनें :

- (A) (a)-(i), (b)-(ii), (c)-(iii), (d)-(iv)  
(B) (a)-(iv), (b)-(iii), (c)-(ii), (d)-(i)  
(C) (a)-(iv), (b)-(i), (c)-(ii), (d)-(iii)  
(D) (a)-(iv), (b)-(ii), (c)-(i), (d)-(iii)  
(E) अनुत्तरित प्रश्न

88. एन सी एफ का पूरा नाम क्या है ?

- (A) राष्ट्रीय पाठ्यचर्या रूपरेखा  
(B) राष्ट्रीय सांस्कृतिक रूपरेखा  
(C) राष्ट्रीय कक्षा-कक्ष रूपरेखा  
(D) राष्ट्रीय सृजनात्मकता रूपरेखा  
(E) अनुत्तरित प्रश्न

86. Which is the most spoken dialect of Rajasthan ?

Choose the **most appropriate** answer from the options given below :

- (A) Dhundhari (B) Mewati  
(C) Bagri (D) Marwari  
(E) Question not attempted

87. Match List I with List II :

List I		List II	
(a)	Acharya Nanesh Muni	(i)	Anuvrata Movement
(b)	Acharya Tulsi	(ii)	Rupayan Sansthan
(c)	Komal Kothari	(iii)	Jaipur Foot
(d)	Dr. P.K. Sethi	(iv)	Samta Darshan

Choose the **most appropriate** answer from the options given below :

- (A) (a)-(i), (b)-(ii), (c)-(iii), (d)-(iv)  
(B) (a)-(iv), (b)-(iii), (c)-(ii), (d)-(i)  
(C) (a)-(iv), (b)-(i), (c)-(ii), (d)-(iii)  
(D) (a)-(iv), (b)-(ii), (c)-(i), (d)-(iii)  
(E) Question not attempted

88. What is the full form of NCF ?

- (A) National Curriculum Framework  
(B) National Cultural Framework  
(C) National Class-Room Framework  
(D) National Creativity Framework  
(E) Question not attempted

89. सूची I को सूची II से सुमेलित करें :

सूची I (खेल)		सूची II (राजस्थान के खिलाड़ी)	
(a)	क्रिकेट	(i)	प्रभाकर राजू
(b)	हॉकी	(ii)	प्रवीण आमरे
(c)	व्हॉलीबॉल	(iii)	लिम्बाराम
(d)	तीरंदाजी	(iv)	गंगोत्री भंडारी

नीचे दिए गए विकल्पों में से सबसे उपयुक्त उत्तर चुनें :

- (A) (a)-(i), (b)-(iv), (c)-(ii), (d)-(iii)  
 (B) (a)-(ii), (b)-(iv), (c)-(i), (d)-(iii)  
 (C) (a)-(iii), (b)-(iv), (c)-(ii), (d)-(i)  
 (D) (a)-(i), (b)-(ii), (c)-(iii), (d)-(iv)  
 (E) अनुत्तरित प्रश्न

90. व्यवसायिक शिक्षा सहित उच्चतर शिक्षा में सकल नामांकन अनुपात में किस वर्ष तक 26.3% (2018) से वृद्धि करके 50% किए जाने का लक्ष्य है ?

- (A) 2030 (B) 2025  
 (C) 2035 (D) 2040  
 (E) अनुत्तरित प्रश्न

91. नीचे दो कथन दिए गए हैं : एक अभिकथन A (Assertion A) के रूप में लिखित है तो दूसरा उसके कारण R (Reason R) के रूप में।

**अभिकथन A :**

राजस्थान सरकार ने अरावली हरित विकास परियोजना शुरू की है।

**कारण R :**

प्रथम वर्ष में इसका जोर वृक्षारोपण पर है। यह अरावली हरित दीवार परियोजना से संरेखित है।

उपरोक्त कथनों के आलोक में, नीचे दिए गए विकल्पों में से सबसे उपयुक्त उत्तर का चयन कीजिए :

- (A) A और R दोनों सही हैं और R, A की सही व्याख्या है।  
 (B) A और R दोनों सही हैं लेकिन R, A की सही व्याख्या नहीं है।  
 (C) A सही है लेकिन R सही नहीं है।  
 (D) A सही नहीं है लेकिन R सही है।  
 (E) अनुत्तरित प्रश्न

89. Match List I with List II :

List I (Games)		List II (Players of Rajasthan)	
(a)	Cricket	(i)	Prabhakar Raju
(b)	Hockey	(ii)	Pravin Amre
(c)	Volleyball	(iii)	Limbaram
(d)	Archery	(iv)	Gangotri Bhandari

Choose the **most appropriate** answer from the options given below :

- (A) (a)-(i), (b)-(iv), (c)-(ii), (d)-(iii)  
 (B) (a)-(ii), (b)-(iv), (c)-(i), (d)-(iii)  
 (C) (a)-(iii), (b)-(iv), (c)-(ii), (d)-(i)  
 (D) (a)-(i), (b)-(ii), (c)-(iii), (d)-(iv)  
 (E) Question not attempted

90. By which year, there is the target to increase the Gross Enrolment Ratio in higher education including vocational education from 26.3% (2018) to 50% ?

- (A) 2030 (B) 2025  
 (C) 2035 (D) 2040  
 (E) Question not attempted

91. Given below are two statements : one is labelled as **Assertion A** and the other is labelled as **Reason R**.

**Assertion A :**

Rajasthan government launched Aravali Green Development project.

**Reason R :**

First year focused on plantation. It is aligned with the Aravali Green wall project.

In the light of the above statements, choose the **most appropriate** answer from the options given below :

- (A) Both A and R are correct and R is the correct explanation of A.  
 (B) Both A and R are correct but R is NOT the correct explanation of A.  
 (C) A is correct but R is not correct.  
 (D) A is not correct but R is correct.  
 (E) Question not attempted

92. निम्नलिखित को राजस्थान सरकार द्वारा राज्य प्रतीकों के रूप में घोषित किया गया है। इन्हें कालक्रमानुसार व्यवस्थित करें :

- (a) ऊँट
- (b) चिंकारा
- (c) रोहिड़ा
- (d) बास्केटबॉल

नीचे दिए गए विकल्पों में से सबसे उपयुक्त उत्तर चुनें :

- (A) (d), (b), (a), (c)      (B) (d), (b), (c), (a)
- (C) (a), (b), (c), (d)      (D) (b), (c), (d), (a)
- (E) अनुत्तरित प्रश्न

93. मुख्यमंत्री अनुप्रति कोचिंग योजना किन परीक्षाओं की तैयारी कर रहे विद्यार्थियों को निःशुल्क कोचिंग प्रदान करती है ?

- (a) आर.ए.एस.
- (b) आई.ए.एस.
- (c) नीट
- (d) खेल
- (e) जे.ई.ई.

नीचे दिए गए विकल्पों में से सबसे उपयुक्त उत्तर चुनें :

- (A) केवल (a), (b), (c), (e)
- (B) केवल (a), (b), (c), (d)
- (C) केवल (b), (c), (d), (e)
- (D) केवल (a), (c), (d), (e)
- (E) अनुत्तरित प्रश्न

94. एनईपी 2020 के अनुसार नवीन शिक्षाशास्त्रीय और पाठ्यचर्या संरचना क्या है ?

- (A) 4+2+3+4      (B) 5+3+3+4
- (C) 4+3+3+4      (D) 5+4+3+4
- (E) अनुत्तरित प्रश्न

92. Following were declared by Rajasthan government as state symbols. Arrange them chronologically :

- (a) Camel
- (b) Chinkara
- (c) Rohida
- (d) Basketball

Choose the **most appropriate** answer from the options given below :

- (A) (d), (b), (a), (c)      (B) (d), (b), (c), (a)
- (C) (a), (b), (c), (d)      (D) (b), (c), (d), (a)
- (E) Question not attempted

93. The Mukhyamantri Anuprati Coaching Yojana provides free coaching to students preparing for :

- (a) RAS
- (b) IAS
- (c) NEET
- (d) SPORTS
- (e) JEE

Choose the **most appropriate** answer from the options given below :

- (A) (a), (b), (c), (e) only
- (B) (a), (b), (c), (d) only
- (C) (b), (c), (d), (e) only
- (D) (a), (c), (d), (e) only
- (E) Question not attempted

94. What is the new pedagogical and curricular structure according to NEP-2020 ?

- (A) 4+2+3+4      (B) 5+3+3+4
- (C) 4+3+3+4      (D) 5+4+3+4
- (E) Question not attempted

95. निम्नलिखित कथनों पर विचार करें :
- सरिस्का बाघ रिजर्व अजमेर में स्थित है।
  - इसे 1 नवंबर 1955 में अभयारण्य का दर्जा दिया गया था।
  - इसे 1978-1979 में बाघ रिजर्व का दर्जा दिया गया था।
  - पुष्कर झील इस रिजर्व का अन्य आकर्षण है।
  - इसका वन क्षेत्र लगभग 1213 वर्ग किमी. में विस्तृत है।

नीचे दिए गए विकल्पों में से सबसे उपयुक्त उत्तर चुनें :

- केवल (a), (b) और (c)
- केवल (b), (c) और (d)
- केवल (b), (c) और (e)
- केवल (c), (d) और (e)
- अनुत्तरित प्रश्न

96. प्रख्यात पत्रकार कर्पूरचंद कुलिश के कार्य हैं :
- उन्होंने अग्रणी हिन्दी दैनिक “राजस्थान पत्रिका” शुरू किया।
  - उन्होंने राजस्थान के ग्रामीण जीवन और समाज पर “मैं देखता चला गया” श्रृंखला शुरू की।
  - उन्होंने रामचंद्र के साथ मिलकर जयपुर फुट का सह-आविष्कार किया था।
  - उन्होंने ढूंढाड़ी बोली में नियमित स्तंभ पोलमपोल में योगदान दिया।

नीचे दिए गए विकल्पों में से सबसे उपयुक्त उत्तर चुनें :

- केवल (a) और (b)
- केवल (a), (b) और (c)
- केवल (a), (b) और (d)
- केवल (b), (c) और (d)
- अनुत्तरित प्रश्न

95. Consider the following statements :

- Sariska Tiger reserve is situated in Ajmer.
- It was granted sanctuary status on 1 Nov 1955.
- It was given status of tiger reserve in 1978-1979.
- Pushkar lake is another attraction of the reserve.
- Its forest area is spread in around 1213 sq km.

Choose the **most appropriate** answer from the options given below :

- (a), (b) and (c) only
- (b), (c) and (d) only
- (b), (c) and (e) only
- (c), (d) and (e) only
- Question not attempted

96. Works of Karpurchand Kulish, a famous journalist are :

- He launched a leading Hindi daily ‘Rajasthan Patrika’.
- He started his series ‘mein dekhta chala gaya’ on rural life and society of Rajasthan.
- He along with Ramchandra co-invented the Jaipur foot.
- He contributed a regular column in Dhundari dialect entitled polampol.

Choose the **most appropriate** answer from the options given below :

- (a) and (b) only
- (a), (b) and (c) only
- (a), (b) and (d) only
- (b), (c) and (d) only
- Question not attempted

97. सूची I को सूची II से सुमेलित करें :

सूची I		सूची II	
(a)	दिव्यांगजन (समान अवसर, संरक्षण और पूर्ण भागीदारी) अधिनियम	(i)	1971
(b)	राजस्थान गैर-सरकारी शैक्षणिक संस्थान अधिनियम	(ii)	2008
(c)	राजस्थान पंचायती राज प्रबोधक सेवा नियम	(iii)	1989
(d)	राजस्थान शैक्षणिक अधीनस्थ सेवा नियम	(iv)	1996

नीचे दिए गए विकल्पों में से सबसे उपयुक्त उत्तर चुनें :

- (A) (a)-(iv), (b)-(ii), (c)-(iii), (d)-(i)  
 (B) (a)-(iii), (b)-(iv), (c)-(ii), (d)-(i)  
 (C) (a)-(iii), (b)-(iv), (c)-(i), (d)-(ii)  
 (D) (a)-(iv), (b)-(iii), (c)-(ii), (d)-(i)  
 (E) अनुत्तरित प्रश्न

98. राजस्थान की निम्नलिखित योजनाओं/परियोजनाओं को कालक्रमानुसार व्यवस्थित करें :

- (a) प्रोजेक्ट ग्रेट इण्डियन बस्टर्ड  
 (b) प्रोजेक्ट टायगर  
 (c) जनता वन योजना  
 (d) अमृता देवी बिशनोई स्मृती पुरस्कार

नीचे दिए गए विकल्पों में से सबसे उपयुक्त उत्तर चुनें :

- (A) (a), (b), (c), (d) (B) (b), (c), (d), (a)  
 (C) (c), (d), (b), (a) (D) (c), (d), (a), (b)  
 (E) अनुत्तरित प्रश्न

97. Match List I with List II :

List I		List II	
(a)	Persons with Disabilities (Equal Opportunities, Protection and Full Participation) Act	(i)	1971
(b)	Rajasthan Non-Government Education Institutions Act	(ii)	2008
(c)	Rajasthan Panchayati Raj Prabodhak Service Rules	(iii)	1989
(d)	Rajasthan Educational Subordinate Service Rules	(iv)	1996

Choose the **most appropriate** answer from the options given below :

- (A) (a)-(iv), (b)-(ii), (c)-(iii), (d)-(i)  
 (B) (a)-(iii), (b)-(iv), (c)-(ii), (d)-(i)  
 (C) (a)-(iii), (b)-(iv), (c)-(i), (d)-(ii)  
 (D) (a)-(iv), (b)-(iii), (c)-(ii), (d)-(i)  
 (E) Question not attempted

98. Arrange the following schemes/projects of Rajasthan chronologically :

- (a) Project Great Indian Bustard  
 (b) Project Tiger  
 (c) Janta Van Yojana  
 (d) Amrita Devi Bishnoi Smriti Award

Choose the **most appropriate** answer from the options given below :

- (A) (a), (b), (c), (d) (B) (b), (c), (d), (a)  
 (C) (c), (d), (b), (a) (D) (c), (d), (a), (b)  
 (E) Question not attempted

99. ग्रेनाइट है :
- (a) एक उपयोगी इमारती वस्तु, जो फर्श , मंदिर आदि बनाने में उपयोग होता है।
- (b) गुलाबी पिंक और मटमैला ग्रे, जालौर में पाया जाता है।
- (c) पेंथर गुलाबी, अलवर में पाया जाता है।
- (d) सीकर जिले में बंदनवाडा ग्रेनाइट का एक महत्वपूर्ण उत्पादक स्थान है।

नीचे दिए गए विकल्पों में से सबसे उपयुक्त उत्तर चुनें:

- (A) केवल (a) और (b)
- (B) केवल (b) और (c)
- (C) केवल (a), (b) और (d)
- (D) केवल (a), (b) और (c)
- (E) अनुत्तरित प्रश्न

100. सूची I को सूची II से सुमेलित करें :

सूची I (विभाग)	सूची II (योजना)
(a) सामाजिक न्याय और अधिकारिता	(i) घर-घर औषधि योजना
(b) स्थानीय स्व-शासन	(ii) इंदिरा रसोई योजना
(c) वन विभाग	(iii) जन आधार योजना
(d) योजना विभाग	(iv) पालनहार योजना

नीचे दिए गए विकल्पों में से सबसे उपयुक्त उत्तर चुनें :

- (A) (a)-(iii), (b)-(iv), (c)-(i), (d)-(ii)
- (B) (a)-(iv), (b)-(i), (c)-(ii), (d)-(iii)
- (C) (a)-(iv), (b)-(ii), (c)-(iii), (d)-(i)
- (D) (a)-(iv), (b)-(ii), (c)-(i), (d)-(iii)
- (E) अनुत्तरित प्रश्न

101. लवणीय झील-सांभर किस नदी से जल प्राप्त करती है?

- (A) साबी (B) लूणी
- (C) रूपनगढ़ (D) फलौदी
- (E) अनुत्तरित प्रश्न

99. Granite is :

- (a) Useful building material used in flooring, temples etc.
- (b) Rosy pink and ash grey is found from Jalore.
- (c) Panther pink is found from Alwar.
- (d) Bandanwale in Sikar district is major producer of granite.

Choose the **most appropriate** answer from the options given below :

- (A) (a) and (b) only
- (B) (b) and (c) only
- (C) (a), (b) and (d) only
- (D) (a), (b) and (c) only
- (E) Question not attempted

100. Match List I with List II :

List I (Department)	List II (Scheme)
(a) Social Justice and Empowerment	(i) Ghar Ghar Aushadi Yojana
(b) Local Self Government	(ii) Indira Rasoi Yojana
(c) Forest Department	(iii) Jan Aadhar Yojana
(d) Planning Department	(iv) Palanhar Yojana

Choose the **most appropriate** answer from the options given below :

- (A) (a)-(iii), (b)-(iv), (c)-(i), (d)-(ii)
- (B) (a)-(iv), (b)-(i), (c)-(ii), (d)-(iii)
- (C) (a)-(iv), (b)-(ii), (c)-(iii), (d)-(i)
- (D) (a)-(iv), (b)-(ii), (c)-(i), (d)-(iii)
- (E) Question not attempted

101. Saline water lake-Sambhar receives water from River :

- (A) Sabi (B) Luni
- (C) Roopangarh (D) Falodi
- (E) Question not attempted

102. निम्नलिखित चित्रों को कालक्रमानुसार व्यवस्थित करें :

- (a) ढोला - मारु
- (b) रागमाला चित्रावली
- (c) जंगली सुअर का शिकार
- (d) राजा पाबूजी का चित्र

नीचे दिए गए विकल्पों में से सबसे उपयुक्त उत्तर चुनें :

- (A) (a), (b), (d), (c) (B) (b), (a), (c), (d)
- (C) (d), (a), (b), (c) (D) (c), (b), (a), (d)
- (E) अनुत्तरित प्रश्न

103. नीचे दो कथन दिए गए हैं : एक अभिकथन A (Assertion A) के रूप में लिखित है तो दूसरा उसके कारण R (Reason R) के रूप में।

**अभिकथन A :**

राजस्थान में शाला दर्पण कार्यक्रम शिक्षण अधिगम में नवोन्मेष को बढ़ावा देने के लिए कक्षा-कक्ष में डिजिटल प्रौद्योगिकी को बढ़ावा देने पर केन्द्रित है।

**कारण R :**

राजस्थान शाला दर्पण कार्यक्रम केवल राज्य के ग्रामीण क्षेत्र में क्रियान्वित है।

उपरोक्त कथनों के आलोक में, नीचे दिए गए विकल्पों में से सबसे उपयुक्त उत्तर का चयन कीजिए :

- (A) A और R दोनों सही हैं और R, A की सही व्याख्या है।
- (B) A और R दोनों सही हैं लेकिन R, A की सही व्याख्या नहीं है।
- (C) A सही है लेकिन R सही नहीं है।
- (D) A सही नहीं है लेकिन R सही है।
- (E) अनुत्तरित प्रश्न

102. Arrange the following painting in chronological order :

- (a) Dhola-Maru
- (b) Ragmaala chitravali
- (c) Hunting a wild boar
- (d) The portrait of Raja Pabuji

Choose the **most appropriate** answer from the options given below :

- (A) (a), (b), (d), (c) (B) (b), (a), (c), (d)
- (C) (d), (a), (b), (c) (D) (c), (b), (a), (d)
- (E) Question not attempted

103. Given below are two statements : one is labelled as **Assertion A** and the other is labelled as **Reason R**.

**Assertion A :**

Shala Darpan Programme in Rajasthan promotes using digital technology in class room to enhance innovation in teaching learning.

**Reason R :**

Rajasthan's Shala Darpan Programme work only in rural areas of the state.

In the light of the above statements, choose the **most appropriate** answer from the options given below :

- (A) Both A and R are correct and R is the correct explanation of A.
- (B) Both A and R are correct but R is NOT the correct explanation of A.
- (C) A is correct but R is not correct.
- (D) A is not correct but R is correct.
- (E) Question not attempted

104. राजस्थान का दक्षिण पूर्व पठार क्षेत्र :
- (a) हाड़ौती पठार के रूप में भी जाना जाता है।  
 (b) यह बारां, बून्दी और कोटा जिलों में विस्तृत है।  
 (c) चंबल इस क्षेत्र की मुख्य नदी है।  
 (d) चूलिया जलप्रपात भी यहाँ स्थित है।  
 (e) यह छप्पन के मैदान के नाम से भी जाना जाता है।  
 नीचे दिए गए विकल्पों में से **सबसे उपयुक्त** उत्तर चुनें :

- (A) (a), (b), (c) और (d)  
 (B) (b), (c), (d) और (e)  
 (C) (a), (b), (d) और (e)  
 (D) (a), (c), (d) और (e)  
 (E) अनुत्तरित प्रश्न

105. किस स्थल से प्राप्त लौह पात्र और उपकरण भारत में लौह युग के प्रादुर्भाव की तारीख नियत करने का महत्वपूर्ण स्रोत हैं ?  
 नीचे दिए गए विकल्पों में से **सबसे उपयुक्त** उत्तर चुनें :

- (A) नोह (भरतपुर)  
 (B) पिंड-पाडलिया (चित्तौड़)  
 (C) गिलुंड (राजसमंद)  
 (D) झाड़ोल (उदयपुर)  
 (E) अनुत्तरित प्रश्न

106. सूची I को सूची II से सुमेलित करें :

सूची I		सूची II	
(a)	कान्हड़ - दे - प्रबंध	(i)	चंद बरदाई
(b)	गंगा लहरी	(ii)	पद्मनाभ
(c)	पृथ्वीराज रासो	(iii)	पृथ्वीराज राठौड़
(d)	बीसलदेव रासो	(iv)	नरपति नाल्ह

नीचे दिए गए विकल्पों में से **सबसे उपयुक्त** उत्तर चुनें :

- (A) (a)-(ii), (b)-(i), (c)-(iv), (d)-(iii)  
 (B) (a)-(iv), (b)-(i), (c)-(iii), (d)-(ii)  
 (C) (a)-(iii), (b)-(iv), (c)-(i), (d)-(ii)  
 (D) (a)-(ii), (b)-(iii), (c)-(i), (d)-(iv)  
 (E) अनुत्तरित प्रश्न

104. South Eastern plateau region of Rajasthan :

- (a) Also known as Hadoti Plateau.  
 (b) It is spread into Baran, Bundi and Kota Districts.  
 (c) Chambal is the main river of this area.  
 (d) Chuliya waterfall is also located here.  
 (e) It is also known as plain of Chhapan.

Choose the **most appropriate** answer from the options given below :

- (A) (a), (b), (c) and (d)  
 (B) (b), (c), (d) and (e)  
 (C) (a), (b), (d) and (e)  
 (D) (a), (c), (d) and (e)  
 (E) Question not attempted

105. The iron implements and tools from which place are important source to fix the date of the advent of the Iron Age in India ?

Choose the **most appropriate** answer from the options given below :

- (A) Noh (Bharatpur)  
 (B) Pind-padliya (Chittor)  
 (C) Gilund (Rajsamand)  
 (D) Jhadol (Udaipur)  
 (E) Question not attempted

106. Match List I with List II :

List I		List II	
(a)	Kanhad-de-Prabandha	(i)	Chand Bardai
(b)	Ganga Lahari	(ii)	Padmanabh
(c)	Prithviraj Raso	(iii)	Prithivi Raj Rathore
(d)	Bisaldev Raso	(iv)	Narpati Nalha

Choose the **most appropriate** answer from the options given below :

- (A) (a)-(ii), (b)-(i), (c)-(iv), (d)-(iii)  
 (B) (a)-(iv), (b)-(i), (c)-(iii), (d)-(ii)  
 (C) (a)-(iii), (b)-(iv), (c)-(i), (d)-(ii)  
 (D) (a)-(ii), (b)-(iii), (c)-(i), (d)-(iv)  
 (E) Question not attempted

107. वर्तनी की दृष्टि से शुद्ध शब्दों का चयन कीजिए-

- (a) श्रृंगार
- (b) घनिष्ठ
- (c) उज्ज्वल
- (d) संसारिक
- (e) संन्यास

नीचे दिए गए विकल्पों में से सबसे उपयुक्त उत्तर का चयन कीजिए :

- (A) केवल (a), (b) और (d)
- (B) केवल (c), (d) और (e)
- (C) केवल (a), (c) और (d)
- (D) केवल (b), (c) और (e)
- (E) अनुत्तरित प्रश्न

108. 'ढाक के तीन पात होना' मुहावरे का अर्थ है-

- (A) यत्नपूर्वक रखना
- (B) ऊटपटाँग काम करना
- (C) अनुरूप बनाना
- (D) सदा एक सा
- (E) अनुत्तरित प्रश्न

109. सूची I को सूची II से सुमेलित करें-

सूची I		सूची II	
(a)	भाववाचक संज्ञा	(i)	माधव सो रहा है।
(b)	पुरुषवाचक सर्वनाम	(ii)	इस मोहल्ले का बजबजाता नाला नगर-निगम की पोल खोल रहा है।
(c)	अकर्मक क्रिया	(iii)	छोटे बालक की मुस्कुराहट अत्यंत प्यारी है।
(d)	गुणवाचक विशेषण	(iv)	आप कहाँ जा रहे थे ?

नीचे दिए गए विकल्पों में से सबसे उपयुक्त उत्तर चुनें :

- (A) (a)-(iv), (b)-(i), (c)-(ii), (d)-(iii)
- (B) (a)-(iii), (b)-(iv), (c)-(i), (d)-(ii)
- (C) (a)-(ii), (b)-(i), (c)-(iv), (d)-(iii)
- (D) (a)-(iv), (b)-(iii), (c)-(i), (d)-(ii)
- (E) अनुत्तरित प्रश्न

110. निम्न शब्दों के सही संधि - विच्छेद को पहचानिए-

- (a) अत्याचार – अति + आचार
- (b) तथैव – तथ + एव
- (c) परीक्षा – पर + ईक्षा
- (d) प्रौढ़ – प्र + ऊढ़
- (e) गव्यम् – गो + यम्

नीचे दिए गए विकल्पों में से सबसे उपयुक्त उत्तर चुनें :

- (A) केवल (a), (b) और (c)
- (B) केवल (b), (c) और (e)
- (C) केवल (a), (d) और (e)
- (D) केवल (b), (d) और (e)
- (E) अनुत्तरित प्रश्न

111. निम्नलिखित सामासिक शब्दों के साथ उनके समास के भेद दिए गए हैं। सही युग्म को पहचानिए।

- (a) चारपाई – द्विगु समास
- (b) पंचानन – कर्मधारय समास
- (c) जलधर – तत्पुरुष समास
- (d) आग-पानी – द्विगु समास
- (e) दशानन – बहुब्रीहि समास

नीचे दिए गए विकल्पों में से सबसे उपयुक्त उत्तर का चयन कीजिए :

- (A) (a), (b) और (d)
- (B) (b), (d) और (e)
- (C) (a), (c) और (e)
- (D) (b), (c) और (d)
- (E) अनुत्तरित प्रश्न

112. Match List I with List II :

List I		List II	
(a)	A piece of cake	(i)	To stop working on something
(b)	Call it a day	(ii)	Feeling slightly unwell
(c)	Once in a blue moon	(iii)	Something very easy
(d)	Under the weather	(iv)	Very rarely

Choose the **most appropriate** answer from the options given below :

- (A) (a)-(iii), (b)-(i), (c)-(iv), (d)-(ii)
- (B) (a)-(i), (b)-(ii), (c)-(iii), (d)-(iv)
- (C) (a)-(iii) (b)-(iv), (c)-(ii), (d)-(i)
- (D) (a)-(iv), (b)-(iii), (c)-(ii), (d)-(i)
- (E) Question not attempted

113. Identify the type of sentence given below in reported speech.

Ria asked Ravi if he had bought tickets for the concert.

- (a) Statement - Assertive
- (b) Statement - Negative
- (c) Interrogative
- (d) Imperative
- (e) A universal truth.

Choose the **most appropriate** answer from the options given below :

- (A) (a) and (e) only
- (B) (b) only
- (C) (c) only
- (D) (d) only
- (E) Question not attempted

114. Fill in the blank with the **most appropriate** article :

This is \_\_\_\_\_ best book of elementary physics.

- (A) A
- (B) An
- (C) The
- (D) Some
- (E) Question not attempted

115. Choose the best single word that can replace the statement given below :

A person who knows and uses several languages is called :

- (A) Monolingual
- (B) Bilingual
- (C) Trilingual
- (D) Polyglot
- (E) Question not attempted

116. Rearrange the sequence of words to form a meaningful sentence in **past tense** :

- (a) were talking
- (b) was writing
- (c) on the black-board.
- (d) when the teacher
- (e) The students

Choose the **most appropriate** answer from the options given below :

- (A) (a), (b), (c), (d), (e)
- (B) (e), (a), (d), (b), (c)
- (C) (a), (e), (b), (d), (c)
- (D) (e), (d), (c), (b), (a)
- (E) Question not attempted

117. निम्नलिखित कथनों पर विचार करें :

- (a) अकबर ने 1562 में अजमेर दौरा किया था।
- (b) तत्पश्चात् अजमेर शहर, अजमेर सूबा की राजधानी बना था।
- (c) अजमेर सूबा में सात सरकार (संभाग) थे।
- (d) इसमें 197 परगने थे।
- (e) हालांकि, इसने गुजरात, मेवाड़ और मारवाड़ के विरुद्ध साम्राज्यवादी अभियानों के आधार केन्द्र की भूमिका नहीं निभाई थी।

नीचे दिए गए विकल्पों में से सबसे उपयुक्त उत्तर चुनें :

- (A) केवल (a) और (b)
- (B) केवल (b), (c) और (d)
- (C) केवल (b), (c), (d) और (e)
- (D) केवल (a), (b), (c) और (d)
- (E) अनुत्तरित प्रश्न

118. नीचे दो कथन दिए गए हैं : एक अभिकथन A (Assertion A) के रूप में लिखित है तो दूसरा उसके कारण R (Reason R) के रूप में।

**अभिकथन A :**

एक पहिया 88 किमी. की दूरी तय करने में 1000 घूर्णन करता है।

**कारण R :**

ऐसे पहिए की त्रिज्या 14 मीटर होगी।

उपरोक्त कथनों के आलोक में, नीचे दिए गए विकल्पों में से सबसे उपयुक्त उत्तर का चयन कीजिए :

- (A) A और R दोनों सही हैं और R, A की सही व्याख्या है।
- (B) A और R दोनों सही हैं, लेकिन R, A की सही व्याख्या नहीं है।
- (C) A सही है लेकिन R सही नहीं है।
- (D) A सही नहीं है लेकिन R सही है।
- (E) अनुत्तरित प्रश्न

117. Consider the following statements :

- (a) Akbar visited Ajmer in 1562.
- (b) Thereafter, Ajmer city became capital of Ajmer Subah.
- (c) Ajmer Subah contained seven Sarkar's (divisions).
- (d) It contained one hundred and ninety-seven Parganas.
- (e) However, it did not serve as the base for imperial operations against Gujarat, Mewar and Marwar.

Choose the **most appropriate** answer from the options given below :

- (A) (a) and (b) only
- (B) (b), (c) and (d) only
- (C) (b), (c), (d) and (e) only
- (D) (a), (b), (c) and (d) only
- (E) Question not attempted

118. Given below are two statements : one is labelled as **Assertion A** and the other is labelled as **Reason R**.

**Assertion A :**

A wheel makes 1000 revolutions in covering a distance of 88 km.

**Reason R :**

The radius of such wheel will be 14 meter.

In the light of the above statements, choose the **most appropriate** answer from the options given below :

- (A) Both A and R are correct and R is the correct explanation of A.
- (B) Both A and R are correct but R is NOT the correct explanation of A.
- (C) A is correct but R is not correct.
- (D) A is not correct but R is correct.
- (E) Question not attempted

119. 19 वीं सदी के दौरान ब्रिटिश ने शहरी जीवन में सुधार के प्रयास किए और नगर पालिकाओं की स्थापना की। ब्रिटिश द्वारा स्थापित नगरपालिकाओं को कालक्रमानुसार व्यवस्थित करें।

- (a) आबू
- (b) जैसलमेर
- (c) कोटा
- (d) बूंदी

नीचे दिए गए विकल्पों में से **सबसे उपयुक्त** उत्तर चुनें :

- (A) (a), (c), (d), (b)    (B) (a), (d), (b), (c)
- (C) (a), (b), (c), (d)    (D) (d), (c), (b), (a)
- (E) अनुत्तरित प्रश्न

120. नीचे दो कथन दिए गए हैं : एक **अभिकथन A** (Assertion A) के रूप में लिखित है तो दूसरा उसके **कारण R** (Reason R) के रूप में।

**अभिकथन A :**

कोलॉइड ऐसे मिश्रण हैं जिनमें कण आमाप इतना छोटा होता है कि नग्न आँखों से नहीं देखा जा सकता है, लेकिन प्रकाश के प्रकीर्णन के लिए पर्याप्त बड़ा होता है।

**कारण R :**

कोलॉइड समांगी मिश्रण है।

उपरोक्त कथनों के आलोक में, नीचे दिए गए विकल्पों में से **सबसे उपयुक्त** उत्तर का चयन कीजिए :

- (A) A और R दोनों सही हैं और R, A की सही व्याख्या है।
- (B) A और R दोनों सही हैं, लेकिन R, A की सही व्याख्या नहीं है।
- (C) A सही है लेकिन R सही नहीं है।
- (D) A सही नहीं है लेकिन R सही है।
- (E) अनुत्तरित प्रश्न

119. During the 19<sup>th</sup> century British made attempts towards improvement in urban life and set up municipalities. Arrange the following municipalities set up by British chronologically :

- (a) Abu
- (b) Jaisalmer
- (c) Kota
- (d) Bundi

Choose the **most appropriate** answer from the options given below :

- (A) (a), (c), (d), (b)    (B) (a), (d), (b), (c)
- (C) (a), (b), (c), (d)    (D) (d), (c), (b), (a)
- (E) Question not attempted

120. Given below are two statements : one is labelled as **Assertion A** and the other is labelled as **Reason R**.

**Assertion A :**

Colloids are mixtures in which the particles size is too small to be seen with naked eye, but is big enough in scatter light.

**Reason R :**

Colloids are Homogeneous mixtures.

In the light of the above statements, choose the **most appropriate** answer from the options given below :

- (A) Both A and R are correct and R is the correct explanation of A.
- (B) Both A and R are correct but R is NOT the correct explanation of A.
- (C) A is correct but R is not correct.
- (D) A is not correct but R is correct.
- (E) Question not attempted

121. नीचे दो कथन दिए गए हैं : एक अभिकथन A (Assertion A) के रूप में लिखित है तो दूसरा उसके कारण R (Reason R) के रूप में।

**अभिकथन A :**

अंकगणित की मूलभूत प्रमेय के अनुसार प्रत्येक धनात्मक पूर्णांक को अभाज्य संख्याओं के गुणनफल के रूप में अभिव्यक्त किया जा सकता है।

**कारण R :**

किसी संख्या को अभाज्य संख्याओं के गुणनफल के रूप में अभिव्यक्त करने की प्रक्रिया को अभाज्य गुणनखण्डीयन के रूप में नहीं निरूपित किया जा सकता है।

उपरोक्त कथनों के आलोक में, नीचे दिए गए विकल्पों में से सबसे उपयुक्त उत्तर का चयन कीजिए :

- (A) A और R दोनों सही हैं और R, A की सही व्याख्या है।
- (B) A और R दोनों सही हैं, लेकिन R, A की सही व्याख्या नहीं है।
- (C) A सही है लेकिन R सही नहीं है।
- (D) A सही नहीं है लेकिन R सही है।
- (E) अनुत्तरित प्रश्न

122. नीचे दो कथन दिए गए हैं : एक अभिकथन A (Assertion A) के रूप में लिखित है तो दूसरा उसके कारण R (Reason R) के रूप में।

**अभिकथन A :**

जलवायु के कारण बाजरा राजस्थान की सबसे महत्वपूर्ण खाद्यान्न फसल है।

**कारण R :**

शुष्क और अर्द्ध-शुष्क जलवायु बाजरा उत्पादन के लिए उचित है।

उपरोक्त कथन के आलोक में, नीचे दिए गए विकल्पों में से सबसे उपयुक्त उत्तर का चयन कीजिए :

- (A) A और R दोनों सही हैं और R, A की सही व्याख्या है।
- (B) A और R दोनों सही हैं लेकिन R, A की सही व्याख्या नहीं है।
- (C) A सही है लेकिन R सही नहीं है।
- (D) A सही नहीं है लेकिन R सही है।
- (E) अनुत्तरित प्रश्न

121. Given below are two statements : one is labelled as **Assertion A** and the other is labelled as **Reason R**.

**Assertion A :**

The fundamental theorem of arithmetic states that every positive integer can be expressed as the product of prime numbers.

**Reason R :**

The focus of expressing a number as the product of prime numbers factor cannot be trimmed as prime factorization.

In the light of the above statements, choose the **most appropriate** answer from the options given below :

- (A) Both A and R are correct and R is the correct explanation of A.
- (B) Both A and R are correct but R is NOT the correct explanation of A.
- (C) A is correct but R is not correct.
- (D) A is not correct but R is correct.
- (E) Question not attempted

122. Given below are two statements : one is labelled as **Assertion A** and the other is labelled as **Reason R**

**Assertion A :**

Bajra is the most important cereal crop of Rajasthan because of climate.

**Reason R :**

Arid and Semi-Arid climate is suitable for the production of Bajra.

In the light of the above statements, choose the **most appropriate** answer from the options given below :

- (A) Both A and R are correct and R is the correct explanation of A.
- (B) Both A and R are correct but R is NOT the correct explanation of A.
- (C) A is correct but R is not correct.
- (D) A is not correct but R is correct.
- (E) Question not attempted

123. एक सजीव के शरीर के संगठन को पदानुक्रम में इस प्रकार व्यवस्थित किया जा सकता है-

- (a) कोशिकाएँ (b) ऊतक  
(c) अंग तंत्र (d) अंग

नीचे दिए गए विकल्पों में से सबसे उपयुक्त उत्तर का चयन कीजिए :

- (A) (a), (b), (c), (d) (B) (a), (b), (d), (c)  
(C) (a), (d), (c), (b) (D) (a), (c), (d), (b)  
(E) अनुत्तरित प्रश्न

124. राजस्थान के दक्षिणी और दक्षिण-पूर्व भागों में सागौन वन स्थित हैं। सबसे अधिक सागौन वन क्षेत्र वाला वन संभाग है :

- (A) बांसवाड़ा (B) चित्तौड़गढ़  
(C) उदयपुर (D) बारां  
(E) अनुत्तरित प्रश्न

125. फेफड़ों में मार्ग/पथ (पासेज) छोटी/लघुत्तम नलिकाओं में बँट जाता है, जो गुब्बारे जैसी संरचनाओं में समाप्त होता है, जिन्हें निम्नलिखित में से क्या कहा जाता है ?

- (A) डायाफ्राम / पट  
(B) फुफ्फुसावरणी झिल्ली  
(C) श्वसनी / ब्रॉन्कस  
(D) कूचिका / एल्विओल  
(E) अनुत्तरित प्रश्न

123. The Hierarchy in the organization of the body of a living organism can be arranged as :

- (a) Cells (b) Tissues  
(c) Organ system (d) Organs

Choose the **most appropriate** answer from the options given below :

- (A) (a), (b), (c), (d) (B) (a), (b), (d), (c)  
(C) (a), (d), (c), (b) (D) (a), (c), (d), (b)  
(E) Question not attempted

124. Teak forests are located in the southern and south-eastern parts of Rajasthan. The forest division having the maximum teak forest is :

- (A) Banswara (B) Chittorgarh  
(C) Udaipur (D) Baran  
(E) Question not attempted

125. Within lungs the passage divides into smaller tubes which terminate in balloon like structures termed as :

- (A) Diaphragm  
(B) Pleural membrane  
(C) Bronchi  
(D) Alveoli  
(E) Question not attempted

126. नीचे दो कथन दिए गए हैं : एक अभिकथन A (Assertion A) के रूप में लिखित है तो दूसरा उसके कारण R (Reason R) के रूप में।

**अभिकथन A :**

उच्चतम न्यायालय और उच्च न्यायालय के न्यायाधीशों को हटाया जाना बहुत कठिन है।

**कारण R :**

उच्चतम न्यायालय और उच्च न्यायालय के किसी न्यायाधीश को केवल सिद्ध कदाचार और अक्षमता के आधार पर ही हटाया जा सकता है।

उपरोक्त कथनों के आलोक में, नीचे दिए गए विकल्पों में से सबसे उपयुक्त उत्तर का चयन कीजिए :

- (A) A और R दोनों सही हैं और R, A की सही व्याख्या है।  
 (B) A और R दोनों सही हैं लेकिन R, A की सही व्याख्या नहीं है।  
 (C) A सही है लेकिन R सही नहीं है।  
 (D) A सही नहीं है लेकिन R सही है।  
 (E) अनुत्तरित प्रश्न

127. सूची I को सूची II से सुमेलित करें :

सूची I (आकृति)	सूची II (आयतन)
(a) घनाभ	(i) लंबाई × चौड़ाई × ऊँचाई
(b) शंकु	(ii) $\pi \times (\text{त्रिज्या})^2 \times$ ऊँचाई
(c) बेलन	(iii) $\frac{1}{3} \pi \times (\text{त्रिज्या})^2 \times$ ऊँचाई
(d) गोला	(iv) $\frac{4}{3} \pi \times (\text{त्रिज्या})^3$

नीचे दिए गए विकल्पों में से सबसे उपयुक्त उत्तर चुनें :

- (A) (a)-(i), (b)-(iii), (c)-(iv), (d)-(ii)  
 (B) (a)-(i), (b)-(iv), (c)-(iii), (d)-(ii)  
 (C) (a)-(i) (b)-(iii), (c)-(ii), (d)-(iv)  
 (D) (a)-(i), (b)-(ii), (c)-(iii), (d)-(iv)  
 (E) अनुत्तरित प्रश्न

126. Given below are two statements : one is labelled as **Assertion A** and the other is labelled as **Reason R**

**Assertion A :**

The removal of judges of Supreme Court and High Court is extremely difficult.

**Reason R :**

A judge of Supreme Court and High Court can be removed only on the ground of proven misbehavior or incapacity.

In the light of the above statements, choose the **most appropriate** answer from the options given below :

- (A) Both A and R are correct and R is the correct explanation of A.  
 (B) Both A and R are correct but R is NOT the correct explanation of A.  
 (C) A is correct but R is not correct.  
 (D) A is not correct but R is correct.  
 (E) Question not attempted

127. Match List I with List II :

List I (Shape)		List II (Volume)	
(a)	Cuboid	(i)	Length × Breadth × Height
(b)	Cone	(ii)	$\pi \times (\text{Radius})^2 \times$ Height
(c)	Cylinder	(iii)	$\frac{1}{3} \pi \times (\text{Radius})^2$ × Height
(d)	Sphere	(iv)	$\frac{4}{3} \pi \times (\text{Radius})^3$

Choose the **most appropriate** answer from the options given below :

- (A) (a)-(i), (b)-(iii), (c)-(iv), (d)-(ii)  
 (B) (a)-(i), (b)-(iv), (c)-(iii), (d)-(ii)  
 (C) (a)-(i) (b)-(iii), (c)-(ii), (d)-(iv)  
 (D) (a)-(i), (b)-(ii), (c)-(iii), (d)-(iv)  
 (E) Question not attempted

128. सूची I को सूची II से सुमेलित करें :

सूची I (लवण)		सूची II (रासायनिक सूत्र)	
(a)	ब्लीचिंग पाउडर (विरंजक चूर्ण)	(i)	Ca(ClO) <sub>2</sub>
(b)	बेकिंग सोडा	(ii)	NaHCO <sub>3</sub>
(c)	धावन सोडा (वाशिंग सोडा)	(iii)	Na <sub>2</sub> CO <sub>3</sub> ·10H <sub>2</sub> O
(d)	प्लास्टर ऑफ पेरिस	(iv)	CaSO <sub>4</sub> · $\frac{1}{2}$ H <sub>2</sub> O

नीचे दिए गए विकल्पों में से सबसे उपयुक्त उत्तर चुनें :

- (A) (a)-(iv), (b)-(iii), (c)-(i), (d)-(ii)  
 (B) (a)-(iv), (b)-(i), (c)-(ii), (d)-(iii)  
 (C) (a)-(iv), (b)-(iii), (c)-(ii), (d)-(i)  
 (D) (a)-(i), (b)-(ii), (c)-(iii), (d)-(iv)  
 (E) अनुत्तरित प्रश्न

129. 18000 रूपए की धनराशि पर 2 वर्षों में उपचयित चक्रवृद्धि ब्याज और साधारण ब्याज के बीच अंतर 405 रूपए है। प्रति वर्ष ब्याज दर क्या है ?

- (A) 14% (B) 15%  
 (C) 24% (D) 25%  
 (E) अनुत्तरित प्रश्न

128. Match List I with List II :

List I (Salt)		List II (Chemical formula)	
(a)	Bleaching Powder	(i)	Ca(ClO) <sub>2</sub>
(b)	Baking Soda	(ii)	NaHCO <sub>3</sub>
(c)	Washing Soda	(iii)	Na <sub>2</sub> CO <sub>3</sub> ·10H <sub>2</sub> O
(d)	Plaster of Paris	(iv)	CaSO <sub>4</sub> · $\frac{1}{2}$ H <sub>2</sub> O

Choose the **most appropriate** answer from the options given below :

- (A) (a)-(iv), (b)-(iii), (c)-(i), (d)-(ii)  
 (B) (a)-(iv), (b)-(i), (c)-(ii), (d)-(iii)  
 (C) (a)-(iv), (b)-(iii), (c)-(ii), (d)-(i)  
 (D) (a)-(i), (b)-(ii), (c)-(iii), (d)-(iv)  
 (E) Question not attempted

129. The difference between compound interest and simple interest accrued on amount of Rs. 18000 in 2 years is Rs. 405. What is the rate of interest per annum ?

- (A) 14% (B) 15%  
 (C) 24% (D) 25%  
 (E) Question not attempted

130. दो संख्याओं का लघुत्तम समापवर्त्य 495 और महत्तम समापवर्तक 5 है। यदि संख्याओं का योग 100 है, तब उनका अंतर होगा :

- (a) 10
- (b) 20
- (c) 30
- (d) 40

नीचे दिए गए विकल्पों में से **सबसे उपयुक्त** उत्तर चुनें :

- (A) केवल (d)                      (B) केवल (c)
- (C) केवल (b)                      (D) केवल (a)
- (E) अनुत्तरित प्रश्न

131. रूडोल्फ विर्चो ने सबसे पहले इस वर्ष में समझाया था कि कोशिकाएँ विभाजन करती हैं और नई कोशिकाएँ पूर्व-विद्यमान कोशिकाओं से बनती हैं-

- (a) 1855                      (b) 1858
- (c) 1859                      (d) 1860

नीचे दिए गए विकल्पों में से **सबसे उपयुक्त** उत्तर का चयन कीजिए :

- (A) केवल (a)                      (B) केवल (b)
- (C) केवल (c)                      (D) केवल (d)
- (E) अनुत्तरित प्रश्न

130. The LCM of two numbers is 495 and their HCF is 5. If the sum of numbers is 100, then their difference between them will be :

- (a) 10
- (b) 20
- (c) 30
- (d) 40

Choose the **most appropriate** answer from the options given below :

- (A) (d) only                      (B) (c) only
- (C) (b) only                      (D) (a) only
- (E) Question not attempted

131. The Rudolf Virchow first explained that cells divide and new cells are formed from pre-existing cells in year \_\_\_\_\_ :

- (a) 1855                      (b) 1858
- (c) 1859                      (d) 1860

Choose the **most appropriate** answer from the options given below :

- (A) (a) only                      (B) (b) only
- (C) (c) only                      (D) (d) only
- (E) Question not attempted

132. हिन्दी शिक्षण के मूल्यांकन के संबंध में कौन से तथ्य सही नहीं हैं ?

- (a) बालकों की उपलब्धियों के मापन में विश्वसनीय तथा वैध उपकरणों का प्रयोग करना चाहिए।
- (b) शिक्षण एवं परीक्षण बिन्दुओं को पहले से निश्चित करना चाहिए।
- (c) परीक्षण बिन्दुओं तथा शिक्षण बिन्दुओं में समन्वय स्थापित करना आवश्यक नहीं है।
- (d) शिक्षण में मूल्यांकन-विधि का प्रयोग करने के लिए विशेष प्रशिक्षण की आवश्यकता नहीं होती है।

नीचे दिए गए विकल्पों में से सबसे उपयुक्त उत्तर का चयन कीजिए :

- (A) केवल (b) और (c)
- (B) केवल (c) और (d)
- (C) केवल (a) और (d)
- (D) केवल (a) और (c)
- (E) अनुत्तरित प्रश्न

133. निम्नलिखित विधियों में से कौन सी विधि हिन्दी-भाषा कौशल की शिक्षण विधि नहीं है?

- (A) अनुकरण विधि
- (B) भाषा प्रयोगशाला
- (C) आगमन निगमन विधि
- (D) संवाद विधि
- (E) अनुत्तरित प्रश्न

134. सूची I को सूची II से सुमेलित करें :

सूची I		सूची II	
(a)	श्रवण कौशल	(i)	भावों और विचारों को लिखित भाषा के माध्यम से पढ़कर समझना
(b)	वाचन कौशल	(ii)	भावों एवं विचारों की कलात्मक अभिव्यक्ति
(c)	लेखन कौशल	(iii)	मौखिक भाषा सुनकर उसके अर्थ एवं भाव समझना
(d)	पठन कौशल	(iv)	भावानुसार स्वर के उचित आरोह-अवरोह के साथ पढ़ना

नीचे दिए गए विकल्पों में से सबसे उपयुक्त उत्तर चुनें :

- (A) (a)-(ii), (b)-(iii), (c)-(i), (d)-(iv)
- (B) (a)-(iii), (b)-(iv), (c)-(ii), (d)-(i)
- (C) (a)-(iii), (b)-(ii), (c)-(i), (d)-(iv)
- (D) (a)-(iv), (b)-(iii), (c)-(ii), (d)-(i)
- (E) अनुत्तरित प्रश्न

135. नीचे दो कथन दिए गए हैं : एक अभिकथन A (Assertion A) के रूप में लिखित है तो दूसरा उसके कारण R (Reason R) के रूप में।

**अभिकथन A :**

शैक्षणिक निदान द्वारा बालकों की कठिनाइयों का पता लगाकर उन कठिनाइयों को दूर करते हुए जो शिक्षण कार्य किया जाता है उसे उपचारी शिक्षण कहते हैं।

**कारण R :**

शैक्षणिक निदान का प्रयोजन ही उपचारी शिक्षण है। उपरोक्त कथन के आलोक में, नीचे दिए गए विकल्पों में से सबसे उपयुक्त उत्तर का चयन कीजिए :

- (A) A और R दोनों सही हैं और R, A की सही व्याख्या है।
- (B) A और R दोनों सही हैं, लेकिन R, A की सही व्याख्या नहीं है।
- (C) A सही है लेकिन R सही नहीं है।
- (D) A सही नहीं है लेकिन R सही है।
- (E) अनुत्तरित प्रश्न

136. Given below are two statements : one is labelled as **Assertion A** and the other is labelled as **Reason R**

**Assertion A :**

Questions for testing writing skills should not be based on rote learning.

**Reason R :**

Rote learning only tests memory, which fails to assess the learner's actual ability to write.

In the light of the above statements, choose the **most appropriate** answer from the options given below :

- (A) Both **A** and **R** are correct and **R** is the correct explanation of **A**.
- (B) Both **A** and **R** are correct but **R** is NOT the correct explanation of **A**.
- (C) **A** is correct but **R** is not correct.
- (D) **A** is not correct but **R** is correct.
- (E) Question not attempted

137. Match **List I** with **List II**

List I		List II	
(a)	Listening	(i)	Narrating events in a logical sequence.
(b)	Speaking Skill	(ii)	Locating details or the sequence of events in a text.
(c)	Reading Skill	(iii)	Identifying the sequence in which things happen in a story.
(d)	Writing Skill	(iv)	Using suitable punctuation marks and writing meaningfully.

Choose the **most appropriate** answer from the options given below :

- (A) (a)-(iii), (b)-(i), (c)-(ii), (d)-(iv)
- (B) (a)-(i), (b)-(ii), (c)-(iii), (d)-(iv)
- (C) (a)-(iv) (b)-(iii), (c)-(ii), (d)-(i)
- (D) (a)-(i), (b)-(iii), (c)-(ii), (d)-(iv)
- (E) Question not attempted

138. Which principle is central to guide methods of teaching English effectively in the classroom ?

- (A) Translating every word to mother tongue.
- (B) Teaching all the grammar rules in detail before practice.
- (C) Encouraging students to communicate in English as much as possible.
- (D) Focusing only on reading classical literature.
- (E) Question not attempted

139. Arrange the following steps for conducting a listening test, in the correct order :

- (a) The teacher reads out the listening text. For example, a story.
- (b) The pupil/student receives the test instructions.
- (c) The teacher grades the responses, accepting minor spelling mistakes (if spelling are not being tested).
- (d) The students perform the required task. (For example, fill in the blanks, choose the correct answer)

Choose the **most appropriate** answer from the options given below :

- (A) (a), (b), (c), (d)
- (B) (b), (a), (d), (c)
- (C) (d), (c), (b), (a)
- (D) (a), (b), (d), (c)
- (E) Question not attempted

140. विभिन्न मनोवैज्ञानिकों द्वारा दी गई बुद्धि की परिभाषा को कालानुक्रमिक रूप से निम्न प्रकार से व्यवस्थित किया जा सकता है-

- (a) साइरिल बर्ट
- (b) डेविड वैक्सलर
- (c) एल्फ्रेड बाइनेट
- (d) लॉयड हम्फ्रेज

नीचे दिए गए विकल्पों में से सबसे उपयुक्त उत्तर का चयन कीजिए :

- (A) (a), (b), (c), (d)      (B) (c), (d), (a), (b)
- (C) (c), (a), (b), (d)      (D) (c), (b), (a), (d)
- (E) अनुत्तरित प्रश्न

141. सामान्य पब्लिक लाइसेंस कौनसे मुफ्त उपयोग सॉफ्टवेयर लाइसेंसों से अलग होते हैं ?

- (a) स्काइपे
- (b) एडोबी रीडर
- (c) रेनसम वेयर
- (d) उल्लंघन (इन्फ्रिजमेंट)

नीचे दिए गए विकल्पों में से सबसे उपयुक्त उत्तर चुनें :

- (A) केवल (a), (b)      (B) केवल (a), (c)
- (C) केवल (b), (c)      (D) केवल (c), (d)
- (E) अनुत्तरित प्रश्न

140. The definition of intelligence in chronological sequence given by different psychologist can be arranged as follows :

- (a) A Cyril Burt
- (b) David Wechsler
- (c) Alfred Binet
- (d) Lloyd Humphreys

Choose the **most appropriate** answer from the options given below :

- (A) (a), (b), (c), (d)      (B) (c), (d), (a), (b)
- (C) (c), (a), (b), (d)      (D) (c), (b), (a), (d)
- (E) Question not attempted

141. General Public License is different from free ware software licenses like :

- (a) Skype
- (b) Adobe reader
- (c) Ransom ware
- (d) Infringement

Choose the **most appropriate** answer from the options given below :

- (A) (a), (b) only      (B) (a), (c) only
- (C) (b), (c) only      (D) (c), (d) only
- (E) Question not attempted

142. नीचे दो कथन दिए गए हैं : एक **अभिकथन A** (**Assertion A**) के रूप में लिखित है तो दूसरा उसके **कारण R** (**Reason R**) के रूप में।

**अभिकथन A :**

अधिगम एक अनुमानित प्रक्रिया है और निष्पादन से भिन्न है।

**कारण R :**

निष्पादन व्यक्ति की प्रेक्षित अनुक्रिया या क्रिया है और ये व्यवहार में स्थायी प्रकृति का परिवर्तन नहीं है।

उपरोक्त कथनों के आलोक में, नीचे दिए गए विकल्पों में से **सबसे उपयुक्त** उत्तर का चयन कीजिए :

- (A) **A** और **R** दोनों सही हैं और **R**, **A** की सही व्याख्या है।
- (B) **A** और **R** दोनों सही हैं, लेकिन **R**, **A** की सही व्याख्या नहीं है।
- (C) **A** सही है लेकिन **R** सही नहीं है।
- (D) **A** सही नहीं है लेकिन **R** सही है।
- (E) अनुत्तरित प्रश्न

142. Given below are two statements : one is labelled as **Assertion A** and the other is labelled as **Reason R**

**Assertion A :**

Learning is an inferred process and is different from performance.

**Reason R :** Performance is a person's observed response or action and not a change of a permanent nature in behavior.

In the light of the above statements, choose the **most appropriate** answer from the options given below :

- (A) Both **A** and **R** are correct and **R** is the correct explanation of **A**.
- (B) Both **A** and **R** are correct but **R** is NOT the correct explanation of **A**.
- (C) **A** is correct but **R** is not correct.
- (D) **A** is not correct but **R** is correct.
- (E) Question not attempted

143. नीचे दो कथन दिए गए हैं : एक **अभिकथन A** (**Assertion A**) के रूप में लिखित है तो दूसरा उसके **कारण R** (**Reason R**) के रूप में;

**अभिकथन A :**

परियोजना कार्य (प्रोजेक्ट वर्क) स्वयं करके और जी कर सीखने (अधिगम) के उपागम को अपनाता है।

**कारण R :**

परियोजना कार्य अध्ययन का एक नियोजित अंश हैं जिसमें शिक्षार्थी द्वारा किए जाने वाला कार्य में कक्षा और प्रयोगशाला अधिगम का अनुप्रयोग करता है और उसका पूरक होता है।

उपरोक्त कथनों के आलोक में, नीचे दिए गए विकल्पों में से **सबसे उपयुक्त** उत्तर का चयन कीजिए :

- (A) **A** और **R** दोनों सही हैं और **R**, **A** की सही व्याख्या है।
- (B) **A** और **R** दोनों सही हैं, लेकिन **R**, **A** की सही व्याख्या नहीं है।
- (C) **A** सही है लेकिन **R** सही नहीं है।
- (D) **A** सही नहीं है लेकिन **R** सही है।
- (E) अनुत्तरित प्रश्न

143. Given below are two statements : one is labelled as **Assertion A** and the other is labelled as **Reason R**

**Assertion A :**

Project work follows the approach of learning by doing and learning by living.


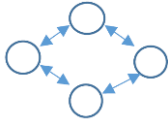
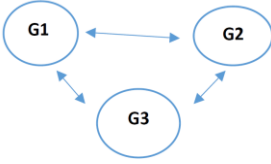
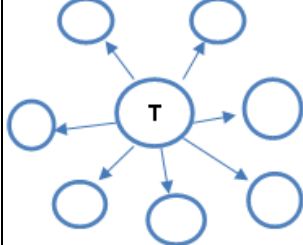
**Reason R :**

Project work is a planned piece of study involving a task taken by learner to supplement and apply classroom and laboratory learning.

In the light of the above statements, choose the **most appropriate** answer from the options given below :

- (A) Both **A** and **R** are correct and **R** is the correct explanation of **A**.
- (B) Both **A** and **R** are correct but **R** is NOT the correct explanation of **A**.
- (C) **A** is correct but **R** is not correct.
- (D) **A** is not correct but **R** is correct.
- (E) Question not attempted


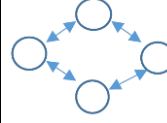
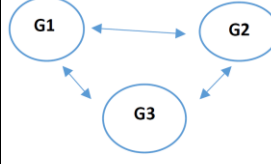
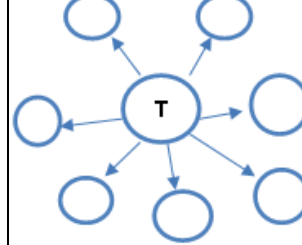
144. सूची I को सूची II से सुमेलित करें :

सूची I		सूची II	
(a)	एक से एक युग्मन	(i)	
(b)	समूह के अंदर	(ii)	
(c)	समूह में	(iii)	
(d)	आरंभक के रूप में शिक्षक	(iv)	

नीचे दिए गए विकल्पों में से सबसे उपयुक्त उत्तर चुनें :

- (A) (a)-(i), (b)-(ii), (c)-(iii), (d)-(iv)
- (B) (a)-(ii), (b)-(iii), (c)-(i), (d)-(iv)
- (C) (a)-(iv), (b)-(i), (c)-(iii), (d)-(ii)
- (D) (a)-(iv), (b)-(i), (c)-(ii), (d)-(iii)
- (E) अनुत्तरित प्रश्न

144. Match List I with List II :

List I		List II	
(a)	One to One pairing	(i)	
(b)	Within the group	(ii)	
(c)	Among the group	(iii)	
(d)	Teacher as initiator	(iv)	

Choose the **most appropriate** answer from the options given below :

- (A) (a)-(i), (b)-(ii), (c)-(iii), (d)-(iv)
- (B) (a)-(ii), (b)-(iii), (c)-(i), (d)-(iv)
- (C) (a)-(iv), (b)-(i), (c)-(iii), (d)-(ii)
- (D) (a)-(iv), (b)-(i), (c)-(ii), (d)-(iii)
- (E) Question not attempted

145. सूची I को सूची II से सुमेलित करें :

सूची I (संकल्पना)		सूची II (व्याख्या)	
(a)	जाति प्रणाली	(i)	धार्मिक पहचान के आधार पर आक्रामक व्यवहार
(b)	जनसांख्यिकीय लाभांश	(ii)	सामाजिक स्तरीकरण की प्रणाली
(c)	सांप्रदायिकतावाद	(iii)	निवास प्रणाली जिसमें युगल/जोड़ा पति के माता-पिता के साथ रहता है
(d)	पितृस्थानिक परिवार	(iv)	एक विशाल कार्यशील –आयु जनसंख्या तथा अपेक्षाकृत कम वृद्ध जनसंख्या

नीचे दिए गए विकल्पों में से सबसे उपयुक्त उत्तर चुनें :

- (A) (a)-(ii), (b)-(i), (c)-(iv), (d)-(iii)  
 (B) (a)-(i), (b)-(iv), (c)-(ii), (d)-(iii)  
 (C) (a)-(ii), (b)-(iv), (c)-(i), (d)-(iii)  
 (D) (a)-(ii), (b)-(iii), (c)-(i), (d)-(iv)  
 (E) अनुत्तरित प्रश्न

146. स्वस्थ आँखों के दृष्टिकोण से कम्प्यूटर के सामने बैठते समय सही दृश्यन (व्यूहिंग) दूरी क्या है ?

- (A) 15-18 इंच (B) 13-17 इंच  
 (C) 14-18 इंच (D) 19-24 इंच  
 (E) अनुत्तरित प्रश्न

145. Match List I with List II :

List I (Concept)		List II (Explanation)	
(a)	Caste-system	(i)	Aggressive chauvinism based on religious identity
(b)	Demographic Dividend	(ii)	System of Social Stratification
(c)	Communalism	(iii)	A system of residence where the couple lives with the husband's parents.
(d)	Patrilocal family	(iv)	A larger working - age population and relatively small older population

Choose the **most appropriate** answer from the options given below :

- (A) (a)-(ii), (b)-(i), (c)-(iv), (d)-(iii)  
 (B) (a)-(i), (b)-(iv), (c)-(ii), (d)-(iii)  
 (C) (a)-(ii), (b)-(iv), (c)-(i), (d)-(iii)  
 (D) (a)-(ii), (b)-(iii), (c)-(i), (d)-(iv)  
 (E) Question not attempted

146. What is the correct viewing distance while sitting in front of the computer from the perspective of healthy eyes ?

- (A) 15-18 inches (B) 13-17 inches  
 (C) 14-18 inches (D) 19-24 inches  
 (E) Question not attempted

147. निम्नलिखित में से कौन सा पद (कैप्शन) सामाजिक लांछन (सोशल स्टिग्मा) को प्रदर्शित करता है और किसी विद्यार्थी को सीखाना, पाठ्यपुस्तक उपलब्धता में क्रमिक हिनता/कमियों के लिए प्रताड़ित करता है ?

(A) फेल / असफल (B) पास / सफल

(C) औसत से कम (D) औसत

(E) अनुत्तरित प्रश्न

148. सृजनात्मक परीक्षणों को विकसित करने वाले कुछ प्रसिद्ध मनोवैज्ञानिक हैं-

(a) टोरेंस

(b) परमेश

(c) गिलफोर्ड

(d) कोहलबर्ग

नीचे दिए गए विकल्पों में से सबसे उपयुक्त उत्तर का चयन कीजिए :

(A) केवल (a), (b), (c) (B) केवल (a), (c), (d)

(C) केवल (b), (c), (d) (D) केवल (a), (b), (d)

(E) अनुत्तरित प्रश्न

147. Which of the following caption represents a social stigma and victimizes a student for systematic deficiencies in teaching, textbook availability ?

(A) Fail (B) Pass

(C) Below Average (D) Average

(E) Question not attempted

148. Some of the famous psychologists who have developed creativity test are :

(a) Torrance

(b) Paramesh

(c) Guilford

(d) Kohlberg

Choose the **most appropriate** answer from the options given below :

(A) (a), (b), (c) only (B) (a), (c), (d) only

(C) (b), (c), (d) only (D) (a), (b), (d) only

(E) Question not attempted

149. सूची I को सूची II से सुमेलित करें :

सूची I (मूल्य / गुण)		सूची II (परिणाम)	
(a)	धैर्य	(i)	आंकड़ों को एकत्रित और रिकॉर्ड करने में
(b)	अध्यवसाय / दृढ़ता	(ii)	उपकरणों को साझा करने की तत्परता
(c)	सहयोग	(iii)	पुनरावर्ती रूप से परीक्षणों को करते रहना जब तक परिणाम प्राप्त नहीं हो जाते हैं।
(d)	निष्ठा / ईमानदारी	(iv)	परीक्षणों के परिणामों की प्रतिक्षा करने में

नीचे दिए गए विकल्पों में से सबसे उपयुक्त उत्तर चुनें :

- (A) (a)-(i), (b)-(iv), (c)-(ii), (d)-(iii)  
 (B) (a)-(iv), (b)-(i), (c)-(iii), (d)-(ii)  
 (C) (a)-(iv), (b)-(ii), (c)-(iii), (d)-(i)  
 (D) (a)-(iv), (b)-(iii), (c)-(ii), (d)-(i)  
 (E) अनुत्तरित प्रश्न

150. सूची I को सूची II से सुमेलित करें :

सूची I		सूची II	
(a)	कम्प्यूटर एडेड डिजाइन	(i)	ऑटोकैड
(b)	वैश्विक स्थानिकीकरण प्रणाली	(ii)	उपग्रह आधारित नौगम्यन प्रणाली
(c)	भौगोलिक सूचना प्रणाली	(iii)	भौगोलिकीय संदर्भित सूचना
(d)	प्रक्रिया प्रबंधन प्रणाली	(iv)	टेली

नीचे दिए गए विकल्पों में से सबसे उपयुक्त उत्तर चुनें :

- (A) (a)-(i), (b)-(ii), (c)-(iii), (d)-(iv)  
 (B) (a)-(ii), (b)-(i), (c)-(iii), (d)-(iv)  
 (C) (a)-(iii), (b)-(i), (c)-(ii), (d)-(iv)  
 (D) (a)-(iii), (b)-(ii), (c)-(i), (d)-(iv)  
 (E) अनुत्तरित प्रश्न

149. Match List I with List II :

List I (Value)		List II (Result)	
(a)	Patience	(i)	In gathering & rewarding data
(b)	Perseverance	(ii)	Willingness to share equipments
(c)	Cooperation	(iii)	Experiments on repeated basis till results are achieved
(d)	Honesty	(iv)	In waiting for results of experiments

Choose the **most appropriate** answer from the options given below :

- (A) (a)-(i), (b)-(iv), (c)-(ii), (d)-(iii)  
 (B) (a)-(iv), (b)-(i), (c)-(iii), (d)-(ii)  
 (C) (a)-(iv), (b)-(ii), (c)-(iii), (d)-(i)  
 (D) (a)-(iv), (b)-(iii), (c)-(ii), (d)-(i)  
 (E) Question not attempted

150. Match List I with List II :

List I		List II	
(a)	Computer Aided Design	(i)	Autocad
(b)	Global Positioning System	(ii)	Satellite based navigation system
(c)	Geographic Information System	(iii)	Geographically referenced information
(d)	Process Management System	(iv)	Tally

Choose the **most appropriate** answer from the options given below :

- (A) (a)-(i), (b)-(ii), (c)-(iii), (d)-(iv)  
 (B) (a)-(ii), (b)-(i), (c)-(iii), (d)-(iv)  
 (C) (a)-(iii), (b)-(i), (c)-(ii), (d)-(iv)  
 (D) (a)-(iii), (b)-(ii), (c)-(i), (d)-(iv)  
 (E) Question not attempted

SPACE FOR ROUGH WORK / रफ कार्य के लिए स्थान

SPACE FOR ROUGH WORK / रफ कार्य के लिए स्थान

उत्तर पत्रक में दो प्रतियाँ हैं - मूल प्रति और द्वितीय प्रति, परीक्षा समाप्ति पर परीक्षा कक्ष छोड़ने से पूर्व परीक्षार्थी उत्तर पत्रक की दोनों प्रतियाँ वीक्षक को सौंपेंगे, परीक्षार्थी स्वयं द्वितीय प्रति को अलग नहीं करें। वीक्षक द्वारा उत्तर पत्रक की मूल प्रति को अपने पास जमा कर, द्वितीय प्रति को मूल प्रति से कट लाइन से मोड़ कर सावधानीपूर्वक अलग कर परीक्षार्थी को सौंपेंगे। परीक्षार्थी द्वितीय प्रति को अपने साथ ले जायेंगे।

# शिक्षा विभाग समाचार

शिक्षा शिक्षक शिक्षार्थी सेवार्थ



शिक्षा शिक्षक शिक्षार्थी से जुडी सभी खबरे सबसे पहले

**Whatsapp** व **Telegram** पर प्राप्त करने के लिए

नीचे दिए गये बटन पर क्लिक करे



GURU SEVIKA



**WHATSAPP**

**Click Here**



**Telegram**

**Click Here**



**You Tube**

**Click Here**



**Facebook**

**Click Here**

**BREAKING** LIVE  
**NEWS**

**Click Here**

**Click To Follow Us**



<https://gurusevika.in/whatsapp>